

تم تحميل وعرض المادة من :



# موقع واجباتي

## www.wajibati.net

موقع واجباتي منصة تعليمية تساهم بنشر حل المناهج الدراسية بشكل متميز لترتقي بمجال التعليم على الإنترنت ويستطيع الطلاب تصفح حلول الكتب مباشرة لجميع المراحل التعليمية المختلفة

\* جميع الحقوق محفوظة للقائمين على الموقع \*

اسم المراجع	اسم المصحح	الدرجة المستحقة		رقم السؤال
		كتابتاً	رقماً	
				الأول
				الثاني
				الثالث
				الرابع
				الخامس
				السادس
				المجموع


نموذج الإجابة



وزارة التعليم  
Ministry of Education

**أسئلة اختبار**

الفصل الدراسي الأول الدور الأول  
للعام الدراسي ١٤٤١هـ

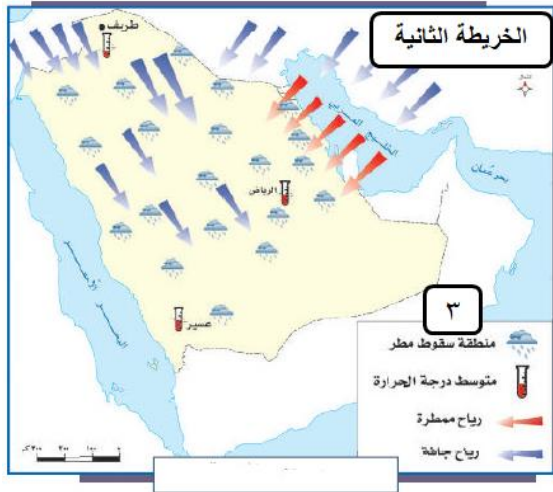


موقع واجباتك  
www.wajbati.net

اسم الطالب:	_____
رقم الجلوس:	_____
المادة: الدراسات الاجتماعية والمواطنة	_____
اليوم والتاريخ:	_____
الزمن : ساعتان	_____
الدرجة الكلية	رقماً ٣٠
كتابة	_____

ولدي الطالب وفقك الله استعن بالله ثم ابدأ الإجابة

السؤال الأول: اختر الإجابة الصحيحة مما يلي: ( نصف درجة لكل فقرة = ٢٠ درجة).



١- يشير الرقم ( ١ ) بالخريطة الأولى إلى منطقة .....

أ	مكة المكرمة	ب	المدينة المنورة	ج	عسير	د	جازان
---	-------------	---	-----------------	---	------	---	-------

٢ - يشير الرقم ( ٢ ) بالخريطة الأولى إلى .....

أ	إطار الخريطة	ب	عنوان الخريطة	ج	مقياس الرسم	د	اتجاه الخريطة
---	--------------	---	---------------	---	-------------	---	---------------

٣ - يشير الرقم ( ٣ ) بالخريطة الثانية إلى .....

أ	مقياس الرسم	ب	اتجاه الخريطة	ج	الإحداثيات	د	مفتاح الخريطة
---	-------------	---	---------------	---	------------	---	---------------

٤ - نوع الخريطة الثانية .....

أ	سكانية	ب	تضاريسية	ج	مناخية	د	زراعية
---	--------	---	----------	---	--------	---	--------

٥ - المقياس ..... يعتبر أفضل أنواع المقاييس ، لأنه يظل صحيحاً عند تصغير أو تكبير الخريطة عند التصوير .

أ	الكتابي	ب	الخطي	ج	النسي	د	الكسري
---	---------	---	-------	---	-------	---	--------

٦ - مجموعة من القواعد العامة التي تنظم شيئاً محدداً، تُعده السلطة التنظيمية، وتصدره السلطة التنفيذية.

أ	الثقافة	ب	النظام	ج	التاريخ	د	الحضارة
---	---------	---	--------	---	---------	---	---------

٧ - صدر النظام الأساسي للحكم بالمملكة العربية السعودية عام ..... هـ ضمن الأنظمة الأساسية.

أ	١٣٤٥	ب	١٣٤٩	ج	١٤١٢	د	١٤٢٥
---	------	---	------	---	------	---	------

٨ - تتكون السلطات في الدولة من: السلطة التنظيمية والتنفيذية والقضائية و ..... هو مرجع هذه السلطات.

أ	الملك	ب	القانون	ج	العُرف	د	ولي العهد
---	-------	---	---------	---	--------	---	-----------

٩ - يتخذ مجلس الوزراء من ..... مقراً له.

أ	مكة المكرمة	ب	المدينة المنورة	ج	جدة	د	الرياض
---	-------------	---	-----------------	---	-----	---	--------

١٠ - بلغ عدد الوزارت بالمملكة العربية السعودية ..... وزارة.

أ	١٨	ب	٢٠	ج	٢٢	د	٢٤
---	----	---	----	---	----	---	----

١١ - بصدر النظام الأساسي للحكم نصت المادة ..... على وجوب التعاون التام بين سلطات الدولة الثلاث.

أ	الثلاثون	ب	الأربعون	ج	الرابعة والأربعون	د	التاسعة والأربعون
---	----------	---	----------	---	-------------------	---	-------------------

١٢ - في عام ١٤٣٤ هـ صدر الأمر الملكي باختيار ..... امرأة سعودية لعضوية مجلس الشورى ضمن أعضائه المائة والخمسين.

أ	عشرين	ب	ثلاثين	ج	أربعين	د	خمسين
---	-------	---	--------	---	--------	---	-------

١٣ - مدة مجلس الشورى ..... سنوات يعاد بعدها تشكيله بأمر ملكي.

أ	أربع	ب	خمس	ج	ست	د	سبع
---	------	---	-----	---	----	---	-----

١٤ - في عام ١٣٥٩ هـ صدر نظام .....

أ	المناطق	ب	البلديات	ج	المقاطعات	د	الأمرء
---	---------	---	----------	---	-----------	---	--------

١٥ - يتكون نظام المناطق من ..... مادة شملت ما يخدم مناطق المملكة العربية السعودية.

أ	إحدى وثلاثين	ب	إحدى وأربعين	ج	إحدى وخمسين	د	إحدى وستين
---	--------------	---	--------------	---	-------------	---	------------

١٦ - اللغة العربية تُعد من مضامين الأساس ..... للمملكة العربية السعودية.

أ	التاريخي	ب	التنموي	ج	الديني	د	العلمي
---	----------	---	---------	---	--------	---	--------

١٧ - أسس ..... الدولة السعودية الثانية.

أ	الإمام تركي بن عبدالله	ب	الإمام محمد بن سعود	ج	الإمام سعود الكبير	د	الملك عبدالعزيز
---	------------------------	---	---------------------	---	--------------------	---	-----------------

١٨ - الوحدة الوطنية تُعد من مضامين الأساس ..... للمملكة العربية السعودية.

أ	التاريخي	ب	العلمي	ج	التنموي	د	الديني
---	----------	---	--------	---	---------	---	--------

١٩ - .....: نظام مترابط يساعد على تحديد إحداثيات أي مكان على سطح الأرض بدقة عالية، وفق خطوط الطول

ودوائر العرض.

أ	الصورة الجوية	ب	المساحة	ج	GPS	د	الخريطة
---	---------------	---	---------	---	-----	---	---------

٢٠- تعتمد هويتنا الوطنية في المملكة العربية السعودية على عدد من المقومات ليس منها.....

أ	الدين	ب	اللغة	ج	التاريخ	د	المال
---	-------	---	-------	---	---------	---	-------

٢١- في عهد الملك ..... رحمه الله أقر الشكل الأخير للعلم السعودي بمواصفاته التي حددها النظام الخاص به.

أ	عبد العزيز	ب	فهد	ج	فيصل	د	عبد الله
---	------------	---	-----	---	------	---	----------

٢٢- أصدر الملك عبدالعزيز إعلان توحيد البلاد باسم المملكة العربية السعودية عام ..... هـ.

أ	١٣١٧	ب	١٣٣٥	ج	١٣٥١	د	١٣٨٠
---	------	---	------	---	------	---	------

٢٣- من الممارسات السليمة في الاحتفال بالمناسبات الوطنية .....

أ	رمي النفايات بالطرق	ب	مخالفة أنظمة المرور	ج	التعدي على الممتلكات	د	استخدام العلم الوطني
---	---------------------	---	---------------------	---	----------------------	---	----------------------

٢٤- من درجات الأوسمة قلادة بدر الكبرى وهي من الدرجة .....

أ	الأولى	ب	الثانية	ج	الثالثة	د	الرابعة
---	--------	---	---------	---	---------	---	---------

٢٥- ليس من أهداف منح الأوسمة السعودية .....

أ	تقديرًا للأعمال	ب	تقديرًا للمتكاسلين	ج	تخليدًا لواقعة	د	تكريماً للشخصيات
---	-----------------	---	--------------------	---	----------------	---	------------------

٢٦- .....: قدرة الشخص على أداء واجباته ، وتحمل نتائج أقواله وأفعاله وما ينتج عنها.

أ	التطوع	ب	المتطوع	ج	المسؤولية	د	الذوق العام
---	--------	---	---------	---	-----------	---	-------------

٢٧- التزام الأنظمة يُعد من أنواع المسؤولية .....

أ	الذاتية	ب	الاجتماعية	ج	الشخصية	د	الوطنية
---	---------	---	------------	---	---------	---	---------

٢٨- من حقوق المواطن السعودي .....

أ	الرعاية الصحية	ب	الاعتزاز بالوطن	ج	الافتخار بالوطن	د	الانتماء للوطن
---	----------------	---	-----------------	---	-----------------	---	----------------

٢٩- .....: مجموعة ما يصدر عن الإنسان من سلوك وآداب تعبر عن قيم المجتمع ومبادئه وهويته.

أ	التطوع	ب	الذوق العام	ج	المسؤولية	د	المواطنة المسؤولة
---	--------	---	-------------	---	-----------	---	-------------------

٣٠- لا يعتبر من مظاهر الذوق العام.....

أ	رفع الصوت	ب	إفشاء السلام	ج	الابتسام	د	النظافة العامة
---	-----------	---	--------------	---	----------	---	----------------

٣١- .....: بذل الجهد والوقت أو المال أو الثلاثة معاً عن رغبة واختيار بغرض أداء واجب دون توقع أجر مالي.

أ	المسؤولية	ب	المتطوع	ج	التطوع	د	الذوق العام
---	-----------	---	---------	---	--------	---	-------------

٣٢- .....: عمل محدد يقوم على مبادرة ذاتية بدوافع دينية أو أخلاقية أو اجتماعية أو إنسانية.

أ	المواطنة المسؤولة	ب	التطوع الجماعي	ج	التطوع المؤسسي	د	التطوع الفردي
---	-------------------	---	----------------	---	----------------	---	---------------

٣٣- المساحة .....: تعني تحديد نقط على سطح الأرض للمساحات الشاسعة مع الأخذ في الحسبان كروية الأرض،

وهو الأعلى دقة من حيث القياسات والأجهزة المستعملة.

أ	الجيوإيسية	ب	المستوية	ج	الطبوغرافية	د	التفصيلية
---	------------	---	----------	---	-------------	---	-----------

٣٤ - برنامج ..... هدفه تحفيز التطوع في أعمال الدفاع المدني.

أ	وقار	ب	تكاتف	ج	تطوع	د	إطعام
---	------	---	-------	---	------	---	-------

٣٥ - ..... وسيلة لتمثيل سطح الكرة الأرضية أو جزء منه بظواهره الطبيعية أو البشرية على لوحة مستوية.

أ	المساحة	ب	GPS	ج	الصورة الجوية	د	الخريطة
---	---------	---	-----	---	---------------	---	---------

٣٦ - ..... الاسم الذي يحدد موضوع الخريطة، والمكان الذي تمثله.

أ	مفتاح الخريطة	ب	عنوان الخريطة	ج	الإحداثيات	د	إطار الخريطة
---	---------------	---	---------------	---	------------	---	--------------

٣٧ - ..... من الطرق اليدوية لنقل الخريطة.

أ	الكاميرا	ب	الحاسب	ج	العارض الضوئي	د	المربعات
---	----------	---	--------	---	---------------	---	----------

٣٨ - ..... صورة لجزء من سطح الأرض ، تلتقط بواسطة الطائرات، أو المناطيد المزودة بآلات التصوير.

أ	الصورة الجوية	ب	الخريطة	ج	المساحة	د	GPS
---	---------------	---	---------	---	---------	---	-----

٣٩ - استغلال الموارد الطبيعية بحكمة يُعد من مضامين الأساس ..... للمملكة العربية السعودية.

أ	العلمي	ب	التنموي	ج	الديني	د	التاريخي
---	--------	---	---------	---	--------	---	----------

٤٠ - استقبال ضيوف الرحمن في المنافذ البرية والجوية والبحرية وتوديعهم من مجالات برنامج .....

أ	كن عوناً	ب	إطعام	ج	وقار	د	تكاتف
---	----------	---	-------	---	------	---	-------

٢٠

السؤال الثاني: ضع ( صح ) أمام العبارة الصحيحة ، أو ( خطأ ) أمام العبارة الخاطئة فيما يلي:

م	العبارة	صحيحة	خاطئة
٤١	يتولى المركز الوطني للوثائق والمحفوظات توثيق الأنظمة السعودية وحفظها وإتاحتها.	أ صح	ب خطأ
٤٢	من ضوابط العمل التطوعي أن لا يكون العمل التطوعي مناسباً لعمر المتطوع.	أ صح	ب خطأ
٤٣	الخرائط الطبيعية هي التي تُمثل عليها الظواهر البشرية التي تتصل بالإنسان ونشاطه.	أ صح	ب خطأ
٤٤	احترام رموز القيادة ( الملك وولي عهده ) وجدان وطني ، وسلوك انتمائي مهم.	أ صح	ب خطأ
٤٥	المساحة الملاحية تكون لمعرفة الحسابات الفلكية لتحديد الزمن والمواقع.	أ صح	ب خطأ
٤٦	تتولى وزارة العمل والتنمية الاجتماعية تنظيم العمل التطوعي وتمكينه ونشر ثقافته.	أ صح	ب خطأ
٤٧	التميز في الدراسة وتحقيق الإنجازات ليست من مقومات الهوية الوطنية.	أ صح	ب خطأ
٤٨	المواطن الصالح هو المسؤول الذي يدرك ارتباطه بوطنه ويؤدي واجباته ويلتزم النظام.	أ صح	ب خطأ

( نصف درجة لكل فقرة = ٤ درجات ).

٤

## السؤال الثالث: أجب عن الأسئلة التالية:

( نصف درجة لكل فقرة ، ويكتفى بإجابة واحدة وتقبل أي إجابة تحتمل نفس المعنى = ٣ درجات).

أ- اذكر اختصاصات مجلس الوزراء.

رسم السياسة الداخلية والخارجية والمالية والاقتصادية والتعليمية والدفاعية وجميع الشؤون العامة - الإشراف على تنفيذ القرارات واللوائح والأنظمة - إحداث المصالح العامة وترتيبها وإنشاء لجان متابعة سير أعمال الوزارات - إقرار الميزانية العامة للدولة والموافقة على القروض التي تعقدتها الحكومة - إقرار المعاهدات والاتفاقيات التي تكون المملكة العربية السعودية طرفاً فيها.

ب- ما الجوانب التي رُوِّعت عند تقسيم المملكة إلى ١٣ منطقة؟

الجوانب الجغرافية، والسكانية، وأوضاع البيئة، وطرق المواصلات.

ج - علل: عدم تنكيس العلم السعودي.

توسطه كلمة التوحيد.

(الشهادتان : لا إله إلا الله محمد رسول الله)

د- اذكر أسس المحافظة على الذوق العام.

احترام القيم والعادات والتقاليد والثقافة السائدة في الوطن - تجنب الظهور في مكان عام بزي أو لباس غير محتشم - تجنب الكتابة أو الرسم على الجدران ووسائل النقل - تجنب التلفظ في الأماكن العامة بأي قول أو فعل فيه إيذاء لمرتاديها أو إضرار بهم أو يؤدي إلى إخافتهم أو تعريضهم للخطر.

هـ- حدد صفات المتطوع.

الإخلاص في العمل - الإيثار وهو عكس الأنانية - الأمانة - القدرة على تحمل المسؤولية وضغوط العمل - القدرة على العمل بروح فريق - احترام قوانين العمل التطوعي والتزام آدابه - حسن معاملته الآخرين.

و - اذكر مجالات التطوع.

خدمة الدين - خدمة المجتمع - خدمة التعليم - خدمة البيئة - خدمة الصحة - خدمة التراث - خدمات إغاثية

## السؤال الرابع: أجب عن الأسئلة التالية:

( نصف درجة لكل فقرة ، ويكتفى بإجابة واحدة وتقبل أي إجابة تحتل نفس المعنى = ٣ درجات).

أ- وضح فوائد التطوع على الفرد.

تحمل المسؤولية - الثواب والأجر - المواطنة والانتماء - الثقة بالنفس - المهارات والخبرات - التواصل - استثمار وقت الفراغ.

ب- إذا علمت أن طول الطريق على الخريطة ( ٦ سم ) بمقياس رسم ( ١ : ٥٠٠٠٠ ) فكم يكون طول الطريق على الطبيعة بالكيلو متر؟

ضرب المسافة على الخريطة في مقياس الرسم ويتم التحويل من سم إلى كم.  $٦ \text{ سم} \times ٥٠٠٠٠ = ٣٠٠٠٠٠ \text{ سم}$   
 $٣٠٠٠٠٠ \text{ سم} \div ١٠٠٠٠٠ = ٣ \text{ كم}$ .

ج - اكتب فوائد نظام تحديد المواقع العالمي.

تحديد المواقع بدقة - تحديد اتجاه القبلة - إرشاد السفن والطائرات - متابعة حركات المركبات على الطرق البرية - توجيه فرق الطوارئ - عرض المخططات والخرائط - توجيه الأعمال العسكرية - إرشاد الرحالين إلى الأماكن التي يريدون الوصول إليها - إرشاد سائقي المركبات إلى الأماكن التي يقصدونها داخل المدن.

د- قارن بين الخريطة والصورة الجوية.

الخريطة	الصورة الجوية
تمثيل لما تعبر عنه - تحتاج لمفتاح ورموز - لا توضح الظواهر المتحركة - توضح مجموعة منتقاه من تفاصيل سطح الأرض - توضح خطوط طول ودوائر العرض والحدود السياسية والإدارية.	حقيقة لما تعبر عنه - لا تحتاج إلى مفتاح - توضح الظواهر المتحركة - تظهر جميع التفاصيل التي تكون أمام عدسة التصوير - لا توضح خطوط طول ودوائر العرض والحدود السياسية والإدارية.

هـ- وضح أغراض استعمالات الخريطة.

تحديد وتوزيع الظواهر الطبيعية والبشرية عليها - معرفة الطرق البرية والبحرية والجوية والإقليمية والعالمية - تخطيط المشاريع المختلفة - تحديد الاتجاهات والمواقع مثل تحديد اتجاه القبلة - دليل في المكاتب السياحية والعقارية والمراكز والأسواق التجارية والفنادق.

و- قارن بين الصورة الجوية الرأسية والصورة الجوية المائلة.

الصورة الجوية الرأسية تلتقط في حالة الوضع الرأسي لعدسات التصوير ، والصورة الجوية المائلة تلتقط والعدسات في وضع مائل ، بحيث تغطي مساحات كبيرة.

انتهت الأسئلة ،،،، وفقك الله.

اسم المراجع	اسم المصحح	الدرجة المستحقة		رقم السؤال
		رقماً	كتابةً	
				الأول
				الثاني
				الثالث
				الرابع
				الخامس
				السادس
				المجموع



وزارة التعليم  
Ministry of Education

**أسئلة اختبار**  
الفصل الدراسي الأول الدور: الأول  
للعام الدراسي ١٤٤١ هـ

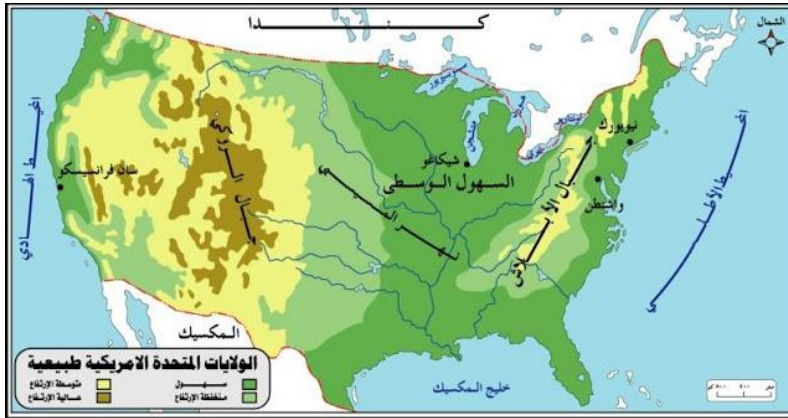


موقع واجباتي  
www.wajibati.net

اسم الطالب:	الصف: الثالث المتوسط	
رقم الجلوس:	المادة: الدراسات الاجتماعية والمواطنة	
اليوم والتاريخ:	الزمن : ساعتان	
الدرجة الكلية	رقماً	كتابة
	٣٠	٣٠

ابنتي الطالبة وفقك الله استعن بالله ثم ابدأ الإجابة

السؤال الأول: اختاري الإجابة الصحيحة مما يلي:



١- نوع الخريطة التي أمامك خريطة .....

أ	تضاريسية	ب	نبات طبيعي	ج	مناخية	د	زراعية
---	----------	---	------------	---	--------	---	--------

٢- ..... هو مجموعة من القواعد العامة التي تنظم شيئاً محدداً، تُعده السلطة التنظيمية وتصدره السلطة التنفيذية.

أ	النظام	ب	الثقافة	ج	القضاء	د	الإدارة
---	--------	---	---------	---	--------	---	---------

٣- صدر النظام الأساسي للحكم في المملكة العربية السعودية عام..... هـ ضمن الأنظمة الأساسية.

أ	١٤١٢	ب	١٤١٣	ج	١٤١٤	د	١٤١٥
---	------	---	------	---	------	---	------

٤- تعود نشأة مجلس الوزراء إلى عهد الملك عبد العزيز آل سعود عندما أسس .....

أ	المجلس الأهلي	ب	مجلس الوكلاء	ج	مجلس الوزراء	د	مجلس الشورى
---	---------------	---	--------------	---	--------------	---	-------------

٥- نظام الحكم في المملكة العربية السعودية .....

أ	جمهوري	ب	إمبراطوري	ج	ملكي	د	سلطنة
---	--------	---	-----------	---	------	---	-------

٦- يتخذ مجلس الوزراء من مدينة ..... مقراً له.

أ	مكة المكرمة	ب	الطائف	ج	جدة	د	الرياض
---	-------------	---	--------	---	-----	---	--------



٧- يتألف مجلس الشورى من ..... عضواً.

أ	مائة وخمسين	ب	مائة وستين	ج	مائة وسبعين	د	مائة وثمانين
---	-------------	---	------------	---	-------------	---	--------------

٨- قسمت المملكة العربية إلى (.....) منطقة إدارية.

أ	١٧	ب	١٥	ج	١٤	د	١٣
---	----	---	----	---	----	---	----

٩- تحتفل المملكة العربية السعودية باليوم الوطني لتوحيدها في يوم ..... من كل عام.

أ	٢٣ سبتمبر	ب	٢١ مارس	ج	٢٥ يوليو	د	٣٠ أغسطس
---	-----------	---	---------	---	----------	---	----------

١٠- ..... هو مجموعة ما يصدر عن الإنسان من سلوك وآداب تعبر عن قيم المجتمع ومبادئه وهويته.

أ	الأوسمة الوطنية	ب	الذوق العام	ج	المسؤولية	د	التطوع
---	-----------------	---	-------------	---	-----------	---	--------

١١- ..... ممارسة إنسانية ارتبطت ارتباطاً وثيقاً بكل معاني الخير والحب عند المجموعات البشرية منذ القدم.

أ	التطوع	ب	العمل التطوعي	ج	المتطوع	د	المسؤولية
---	--------	---	---------------	---	---------	---	-----------

١٢- يحتوي ..... على الرموز التي تمثل الظواهر والمعالم على الخريطة.

أ	إطار الخريطة	ب	مقياس الرسم	ج	عنوان الخريطة	د	مفتاح الخريطة
---	--------------	---	-------------	---	---------------	---	---------------

١٣- من طرق نقل الخريطة يدوياً: .....

أ	الحاسب	ب	العارض الضوئي	ج	الشف	د	المساحة
---	--------	---	---------------	---	------	---	---------

١٤- ..... صورة جزء من سطح الأرض، تلتقط بواسطة الطائرات، أو المناطيد المزودة بآلات تصوير.

أ	الصورة الجوية	ب	الخريطة	ج	نظام تحديد المواقع العالمي (GPS)	د	الأقمار الصناعية
---	---------------	---	---------	---	----------------------------------	---	------------------

١٥- الخرائط ..... تمثل أنواع النباتات الطبيعية المختلفة، وتوزيعها.

أ	المناخية	ب	النبات الطبيعي	ج	التضاريسية	د	السكانية
---	----------	---	----------------	---	------------	---	----------

١٦- الجهة المسؤولة عن برنامج (كن عوناً): .....

أ	وزارة الحج والعمرة	ب	الجمعية السعودية للعمل التطوعي	ج	الجمعية الخيرية للطعام	د	المديرية العامة للدفاع المدني
---	--------------------	---	--------------------------------	---	------------------------	---	-------------------------------

١٧- يتولى ..... توثيق الأنظمة السعودية وحفظها وإتاحتها، وذلك ضمن اختصاصاته الأساسية.

أ	المجلس الأهلي	ب	نظام المناطق	ج	المركز الوطني للوثائق والمحفوظات	د	مجلس الشورى
---	---------------	---	--------------	---	----------------------------------	---	-------------

١٨- يعقد مجلس الشورى جلسة دورية كل ..... على الأقل.

أ	أسبوعين	ب	ثلاث أسابيع	ج	شهر	د	شهرين
---	---------	---	-------------	---	-----	---	-------

١٩- من اختصاصات مجلس الوزراء: .....

أ	الإشراف على تنفيذ	ب	مناقشة الخطة العامة	ج	مراجعة الخطة العامة	د	مراجعة الأنظمة
---	-------------------	---	---------------------	---	---------------------	---	----------------

القرارات واللوائح والأنظمة.	التنمية الاقتصادية والاجتماعية.	التنمية الاقتصادية والاجتماعية.	اللوائح.
-----------------------------	---------------------------------	---------------------------------	----------

٢٠- وسيلة لتمثيل سطح الكرة الأرضية أو جزء منه بظواهره الطبيعية والبشرية على لوحة مستوية.

أ	نظام تحديد المواقع (GPS)	ب	الصور الجوية	ج	الخرائط	د	علم المساحة
---	--------------------------	---	--------------	---	---------	---	-------------

٢١- تُصنّف خريطة فتوحات محمد القاسم الثقفي على أنها خريطة: .....

أ	تضاريسية	ب	تاريخية	ج	النبات الطبيعي	د	خريطة سياسية
---	----------	---	---------	---	----------------	---	--------------

٢٢- يتألف مجلس الوزراء من الرئيس، ونائب الرئيس، والوزراء العاملين، و.....

أ	أمير المنطقة	ب	نائب الأمير	ج	وكيل الإمارة والمحافظين	د	الوزراء الأعضاء المعينين
---	--------------	---	-------------	---	-------------------------	---	--------------------------

٢٣- يعاد تشكيل مجلس الوزراء في المملكة العربية السعودية كل .....سنوات.

أ	ثلاث	ب	أربع	ج	خمس	د	ست
---	------	---	------	---	-----	---	----

٢٤- صدر الأمر الملكي عام ١٤٣٤هـ تقرر فيه تعيين ..... امرأة سعودية لعضوية مجلس الشورى ضمن أعضائه.

أ	ثلاثين	ب	أربعين	ج	خمسين	د	ستين
---	--------	---	--------	---	-------	---	------

٢٥- صدر في عام ١٣٥٩هـ نظام..... الذي قُسمت بموجبه المملكة العربية السعودية إدارياً إلى عدة إمارات.

أ	الأمرء	ب	المناطق	ج	البلديات	د	الولايات
---	--------	---	---------	---	----------	---	----------

٢٦- من أمثلة الممارسات التي تحدث في اليوم الوطني والتي تخالف السلوك الحضاري: .....

أ	استدكار جوانب التاريخ	ب	مخالفة أنظمة المرور	ج	حسن استعمال العلم الوطني	د	إبراز المنجزات الحضارية
---	-----------------------	---	---------------------	---	--------------------------	---	-------------------------

٢٧- صدر نظام المناطق في المملكة العربية السعودية عام.....هـ.

أ	١٤١٢	ب	١٤١٣	ج	١٣٣٣	د	١٤٤٤
---	------	---	------	---	------	---	------

٢٨- مجلس الشؤون الاقتصادية والتنمية من أجهزة: .....

أ	مجلس الشورى	ب	مجلس المنطقة	ج	مجلس الوزراء	د	المجلس الأعلى للقضاء
---	-------------	---	--------------	---	--------------	---	----------------------

٢٩- ..... عبارة عن خطوط الطول ودوائر العرض

أ	مفتاح الخريطة	ب	شبكة الإحداثيات	ج	عنوان الخريطة	د	الإطار
---	---------------	---	-----------------	---	---------------	---	--------

٣٠- تحديد الجزء الذي تمثله الخريطة من فوائد .....

أ	الإطار	ب	مفتاح الخريطة	ج	الاتجاه	د	مقياس الرسم
---	--------	---	---------------	---	---------	---	-------------

٣١ - أصبح عدد الوزارات في المملكة العربية السعودية .....وزارة.

أ	١٣	ب	١٨	ج	٢٢	د	٣٠
---	----	---	----	---	----	---	----

٣٢ - من أعمال التطوع: .....

أ	زيارة المكتبات	ب	أداء الواجبات المدرسية	ج	مشاهدة مباريات كرة القدم	د	الالتحاق ببرامج الكشافة المدرسية
---	----------------	---	------------------------	---	--------------------------	---	----------------------------------

٣٣ - .....نظام مترابط يساعد على تحديد إحداثيات أي مكان على سطح الأرض بدقة عالية.

أ	الإطار	ب	GPS	ج	مفتاح الخريطة	د	الاتجاه
---	--------	---	-----	---	---------------	---	---------

٣٤ - مهمة .....متابعة عمل الأقمار ومراقبته مراقبة مستمرة، من أجل أن يكون حساب الإحداثيات حساباً دقيقاً.

أ	قسم التحكم	ب	GPS	ج	قسم الأقمار الصناعية	د	قسم المستخدم
---	------------	---	-----	---	----------------------	---	--------------

٣٥ - علم ..... هو العلم الذي يبحث في طرق مختلفة لتمثيل سطح الأرض، وما عليه من مظاهر طبيعية أو بشرية، وتوقعها على خرائط بمقياس رسم محدد يوافق الغرض الذي أنشئت الخريطة من أجله.

أ	الخرائط الطبيعية	ب	الجغرافيا	ج	المساحة	د	الخرائط البشرية
---	------------------	---	-----------	---	---------	---	-----------------

٣٦ - المساحة ..... تعني تحديد نقط على سطح الأرض للمساحات الشاسعة مع الأخذ في الحسبان كروية الأرض.

أ	الجيوديسية	ب	المستوية	ج	الطبوغرافية	د	التفصيلية
---	------------	---	----------	---	-------------	---	-----------

٣٧ - المساحة.....تتناول القياس والوصف للخصائص الطبيعية للأجزاء القابلة للملاحة البحرية، مثل: المحيطات والبحار.

أ	الفلكية	ب	الملاحية	ج	الأرضية	د	التفصيلية
---	---------	---	----------	---	---------	---	-----------

٣٨ - أفضل أنواع مقياس الرسم المقياس.....

أ	الخطي	ب	الكتابي	ج	الكسري	د	النسي
---	-------	---	---------	---	--------	---	-------

٣٩ - الإسهام في الأعمال الإسعافية من مجالات برنامج.....

أ	تطوع	ب	إطعام	ج	تكاتف	د	كن عوناً
---	------	---	-------	---	-------	---	----------

٤٠ - .....عمل محدد يقوم على مبادرة ذاتية بدوافع دينية أو أخلاقية أو اجتماعية أو إنسانية.

أ	تطوع فردي	ب	العمل الجماعي	ج	العمل التطوعي	د	المبادرة
---	-----------	---	---------------	---	---------------	---	----------

نصف درجة  
لكل فقرة

٢٠

السؤال الثاني: ضع كلمة ( صح ) أمام العبارة الصحيحة , أو كلمة ( خطأ ) أمام العبارة الخاطئة فيما يلي:

م	العبارة	صحيحة	خاطئة
٤١	التطوع بالتبرع بالدم لا يخدم الوطن.	أ	ب
٤٢	إختلاف المعلومات التي تقدمها الخرائط أدى إلى تنوعها.	أ	ب
٤٣	يحدد أجهزة (GPS) الأماكن على سطح الأرض بدقة عالية.	أ	ب
٤٤	من واجبات المواطن السعودي أن يكون له انتماء وولاء لوطنه, ومليكه.	أ	ب
٤٥	اللغة العربية مصدر فخر وطني في المملكة العربية السعودية.	أ	ب
٤٦	التميز في الدراسة وتحقيق الإنجازات ليست من مقومات الهوية الوطنية.	أ	ب
٤٧	من مسؤوليات أمير المنطقة العمل لتطوير المنطقة.	أ	ب
٤٨	يكون لكل منطقة أمير ونائب أمير.	أ	ب

ثلاث ارباع  
لكل فقرة

٤

السؤال الثالث: عللي لما يأتي:

أ- علم المملكة لا ينكس أبدا. (نصف درجة)

لأنه يتضمن شعار التوحيد .

ب- فسري احتفال المملكة العربية السعودية باليوم الوطني. (نصف درجة)

تقديرا للجهود التي قام بها المؤسس ، تعميق الانتماء والاولاء للوطن ، استذكار جوانب التاريخ والتراث الوطني والاس

والمبادئ التي تقوم عليها المملكة

ج- منح الأوسمة الملكية في مجالات مختلفة. (نصف درجة)

تمنح الاوسمة السعودية بأوامر ملكية تكريما وتقديرا لمن قام بأعمال جليلة او لتخليد وقائع مهمة او لتسجيل مناسبات

ذات قيمة وطنية

د- إنشاء مجلس الشورى. (نصف درجة)

لتحقيق مبدأ الشورى الاسلامي

قارني بين الخريطة والصورة الجوية من حيث :

الخريطة (نصف درجة )	الصورة الجوية (نصف درجة )
-تمثيل لما تعبر عنه -تحتاج لمفتاح رموز تمثل مجموعة منتقاه من العناصر	واقع لا تحتاج الى مفتاح رموز شاملة لجميع العناصر

٣
٣

السؤال الرابع: أجبني عن الأسئلة التالية:

- أ- مافوائد نظام تحديد المواقع (GPS)؟ (درجة )
- تحديد اتجاه القبلة - تحديد المواقع بدقة - ارشاد السفن والطائرات - عرض الخرائط والمخططات - توجيه الاعمال العسكرية - ارشاد الرحالين وارشاد سائقي الأجرة
- ب- مافوائد التطوع على الفرد؟ (درجة )
- تحمل المسؤولية - الثواب والاجر - الثقة بالنفس - استثمار وقت الفراغ - التواصل - المهارات والخبرات
- ج - أذكر مظاهر الذوق العام. (درجة )
- افشاء السلام - خفض الصوت - النظافة العامة - الابتسامه - إحترام أسبقية الاخرين - تقدير الاخرين

انتهت الأسئلة ,,,, وفقك الله.

٣
٣