

## حل أسئلة الاختبار

القدرة المعرفية – كمي

# القدرة المعرفية الكمي

## حل أسئلة الاختبار

القدرة المعرفية – كمية

1 أربعة أشخاص قرروا عمل حفلة لصديقتهم ودفعوا ١٠٠٠، ٢٠٠٠، ٣٠٠٠، ٤٠٠٠ محمد ليس أقل من دفع وعلي ليس أكثر من دفع، مهند وفهد دفعوا معاً ٦٠٠٠ من الذي دفع ٣٠٠٠؟

- a محمد      b علي      c فهد      d مهند

## حل أسئلة الاختبار

القدرة المعرفية – كمية

2 حاسب سعره ٦٠٠٠ ريال وتم تخفيض سعره بنسبة ٢٠٪ ثم خفض ١٠٪ على السعر الجديد، فكم سعر الحاسب بعد التخفيض؟

d ٤٠٠٠ ريال

c ٤٢٠٠ ريال

b ٤٣٢٠ ريال

a ٤٨٠٠ ريال

## حل أسئلة الاختبار

القدرة المعرفية – كمية

3 سلعة قيمتها ٢٢٠ خفضت بنسبة ١٥٪ فما قيمتها الحالية؟

١٨٧ d

٢٠٥ c

١٧٧ b

١٦٧ a

## حل أسئلة الاختبار

القدرة المعرفية – كمية

4 نسبة ١٠٪ من كيس الأرز تساوي ٢٥٪ من كيس السكر، فإذا كان سعر كيس السكر كامل ١٦ ريال فكم سعر كيس الأرز؟

٦٠ d

٤ c

٤٠ b

١٦٠ a

## حل أسئلة الاختبار

القدرة المعرفية - كمية

5 عامل ينهي ٢٥٪ من العمل خلال ٨ ساعات، يحتاج كم عامل حتي ينهي العمل كامل خلال ٤ ساعات؟

a ٦ عمال

b ٨ عمال

c ١٠ عمال

d ١٢ عمال

## حل أسئلة الاختبار

القدرة المعرفية – كمية

٣٤ قطعة حلوي لو قسمت بالتساوي على ١٢ طالب كم يبقي منها؟ 6

٤ d

٦ c

٧ b

١٠ a

## حل أسئلة الاختبار

القدرة المعرفية – كمية

7 طابعة تعمل كل يوم ٣٠٠ دقيقة، كم عدد الساعات التي تعملها خلال ٦ أيام؟

a ٢٠ ساعة

b ٣٠ ساعة

c ٤٠ ساعة

d ٥٠ ساعة



## حل أسئلة الاختبار

القدرة المعرفية - كمية

٨ الدولار الأمريكي إذا كان يساوي بالريال ٣,٧٥ ريالاً، ولديك ٢٠٠ دولار، فكم تساوي بالريال؟

٨٠٠ d

٧٥٠ c

١٠٠٠ b

٢٤٠ a

## حل أسئلة الاختبار

القدرة المعرفية – كمية

9 سيارة تقطع مسافة ١٦٠ كم تصل في ساعتين، إذا سارت بنفس السرعة فكم ساعة تحتاج لتقطع مسافة ٤٠٠ كم؟

d ٥,٥ ساعة

c ٤,٥ ساعة

b ٥ ساعات

a ٤ ساعات

## حل أسئلة الاختبار

القدرة المعرفية – كمية

١٠ ٦ أشخاص كل شخص أخذ ثلث فكم قطع رغيف تم توزيعها؟

٢ a

٣ b

٤ c

٥ d

## حل أسئلة الاختبار

القدرة المعرفية – كمي

11 أكمل المتابعة: ٢٠، ٢٥، ٢٩، ٣٢، .....:

٤٠ a

٣٨ b

٣٤ c

٣٠ d

## حل أسئلة الاختبار

القدرة المعرفية – كمية

أكمل المتابعة: ٨، ٤، ١٦، ٨، ٦٤، ..... 12

٣٢ a

٣٤ b

٤٢ c

٤٣ d

13 أوجد الحد التالي: ٤٩، ٥٣، ٥٦، ٥٨، .....

٤٤

d

٣٨

c

٤٥

b

٥٥

a

14 أكمل المتابعة: ٦، ٩، ١٨، ٢١، ٤٢، ٤٥، .....؟

٩٣ d

٥٥ c

٥٣ b

٩٠ a

## حل أسئلة الاختبار

القدرة المعرفية – كمية

16 اختبار خالد بعد أسبوعين ويستمر لمدة أسبوعين واختبار محمد قبله بأسبوع واختبار فيصل بعده بأسبوع كم عدد الأسابيع ويخلصون اختبارهم؟

٦ d

٤ c

٥ b

٣ a



## حل أسئلة الاختبار

القدرة المعرفية - كمية

17 رجل ذهب من منزله إلى عمله وقطع ٧٠٪ بقي له ٩ كيلو، كم عدد الكيلوات التي قطعها؟

- ١٩ d      ٣٠ c      ٩ b      ٢١ a

## حل أسئلة الاختبار

القدرة المعرفية – كمية

18 مصعد يكفي لـ ٤٠ بالغ أو ٥٠ طفل إذا ركب ٨ بالغين المصعد فكم يسمح لعدد من الأطفال؟

الإجابة : ٤٠

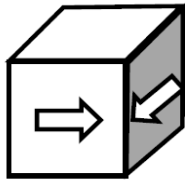
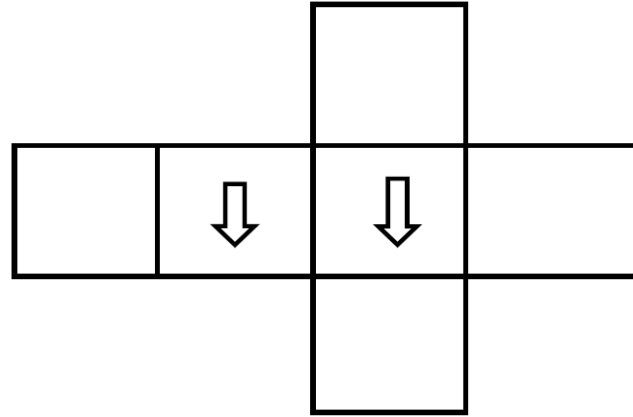
## حل أسئلة الاختبار

القدرة المعرفية – كمية

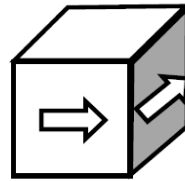
19 مشروع شقق يحتوي ٣٠ شقة، إذا كان الربح بالشقة الواحدة ٥٠٠٠٠، فكم الربح الإجمالي بالمشروع؟

الإجابة : ١٥٠٠٠٠٠

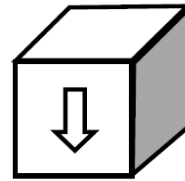
20 ما هو المكعب المطابق؟



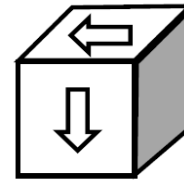
d



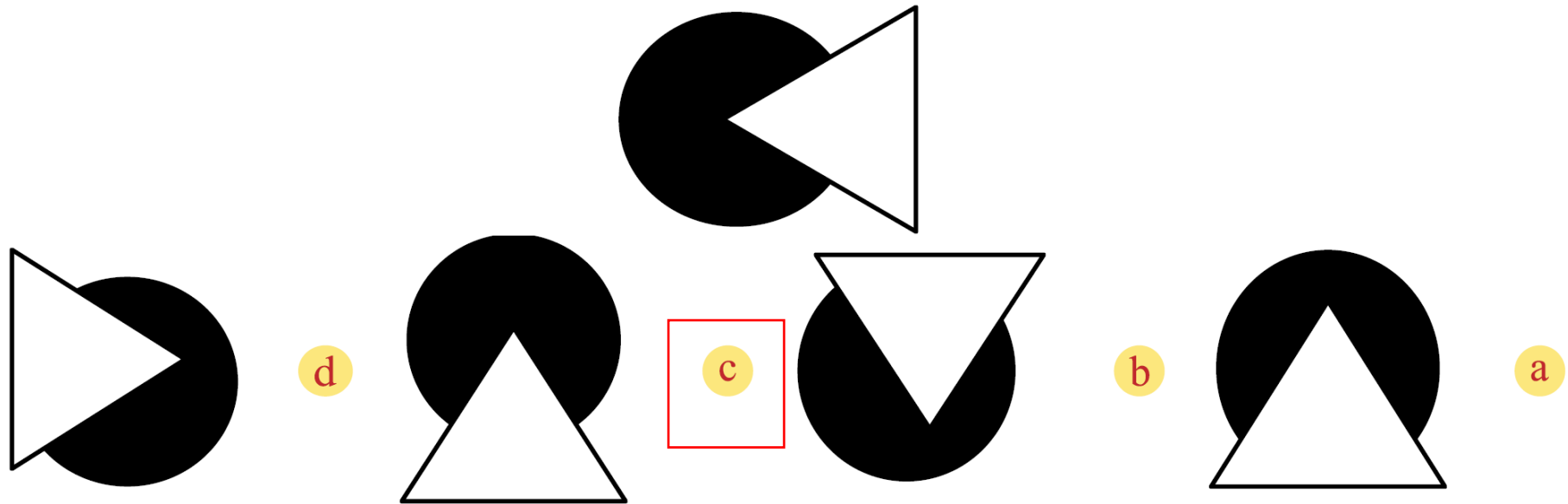
c



b



a



## حل أسئلة الاختبار

القدرة المعرفية – كمية

22

حاسب سعره ٦٠٠٠ ريال وتم تخفيض سعره بنسبة ٢٠٪ ثم خفض ١٠٪ على السعر الجديد، فكم سعر الحاسب بعد التخفيض؟

٤٣٠٠ d

٤٣٢٠ c

٤٠٠٠ b

٤٨٠٠ a

## حل أسئلة الاختبار

القدرة المعرفية – كمية

23 نفق طوله ٣٠٠ متر وقطار طول عرباته ٢٠٠ لو كان رأس القطار بمنتصف النفق، فكم الخارج من القطار خارج النفق؟

النفق؟

٥٠ a

١٠٠ b

١٥٠ c

٢٠٠ d

24 نورة حلت ٤٠٪ من ٨٠ سؤال كم باقي لها؟

١٥ d

٨٠ c

٤٨ b

٢٠ a



## حل أسئلة الاختبار

القدرة المعرفية - كمية

25 ٣ اقلام و٣ دفاتر مجموعهم ٢١ ريال، اذا كان سعر القلم اقل من سعر الدفتر بـ ٣ ريال، فكم سعر الدفتر؟

٧ d

٦ c

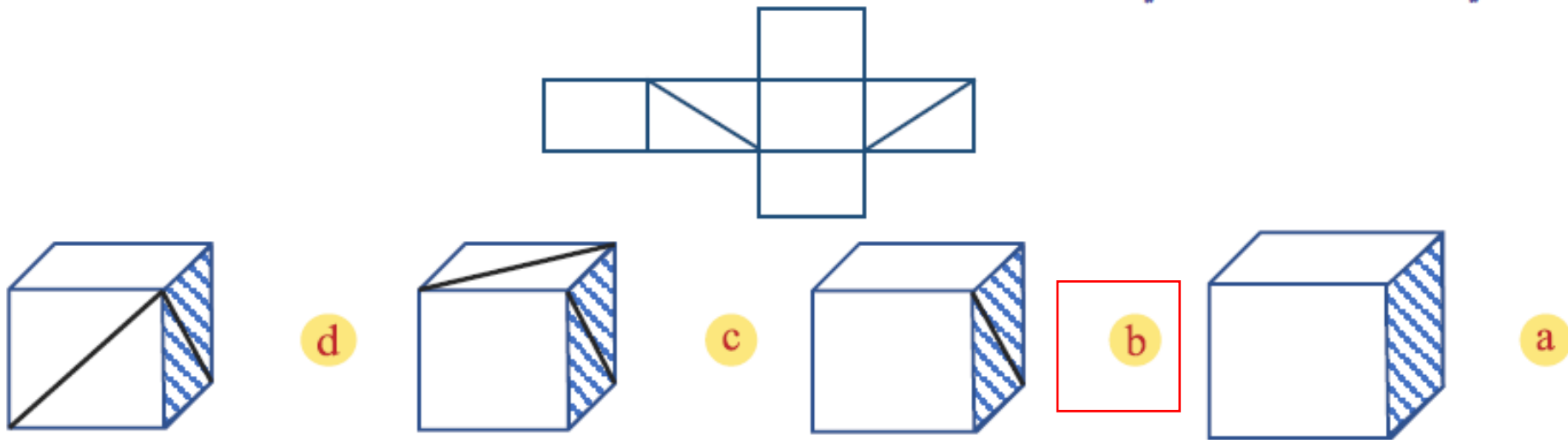
٤ b

٥ a

## حل أسئلة الاختبار

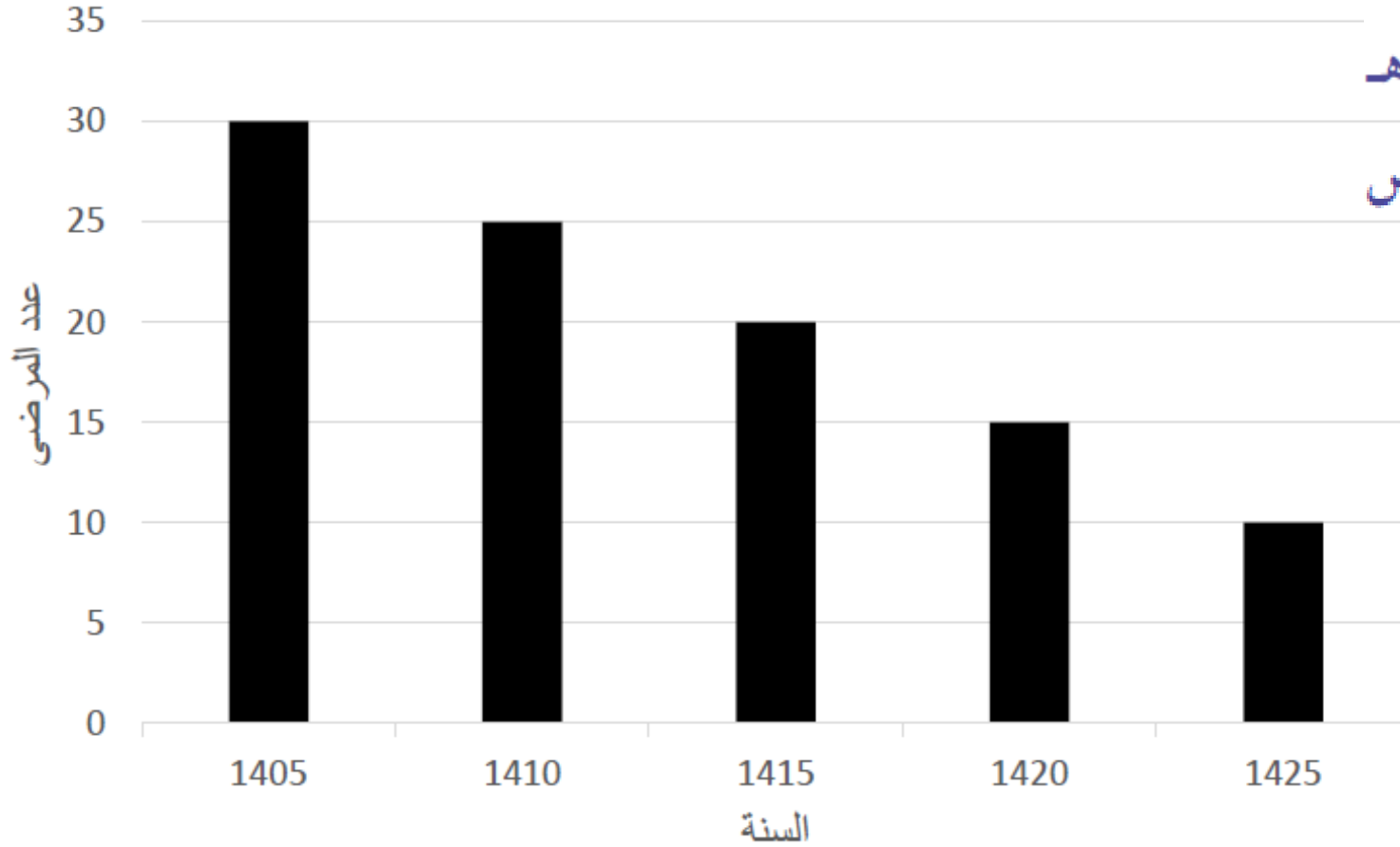
القدرة المعرفية - كمي

26 عند طي هذا المكعب ماذا يعطي؟



## حل أسئلة الاختبار

القدرة المعرفية – كمية



27 بيان عدد المرضى لشلل الأطفال من عام ١٤٠٥ هـ  
من الرسم البياني حدد أي عام ينتهي مرض  
شلل الأطفال؟

a ١٤٢٠ هـ

b ١٤٤٠ هـ

c ١٤٢٥ هـ

d ١٤٤٥ هـ

## حل أسئلة الاختبار

القدرة المعرفية – كمي

# القدرة المعرفية الكمي

## حل أسئلة الاختبار

١١٩

d

١١٠

c

١٠٩

b

١٠٠

a

... ٧٧ ، ٨٨ ، ٩٩

1

## حل أسئلة الاختبار

القدرة المعرفية – كمية

أكمل النمط التالي: ٢٤، ١٦، ١٢، ١٠، ....

2

٩ a

٨ b

٦ c

٤ d

## حل أسئلة الاختبار

القدرة المعرفية – كمية

3 دار نشر تنشر قصة صغيرة وقصة ورواية وكتاب: القصة الصغيرة أقل حد ٢٠٠ صفحة، الرواية أقل حد ٢٠١ صفحة، القصة أقل حد ٣٠١ صفحة، الكتاب أقل حد ٥٠٠ صفحة فإذا نشرت ٤٠٠ صفحة فإنها تصنف ضمن:

- a قصة قصيرة      b قصة      c رواية      d لا تصنف

## حل أسئلة الاختبار

القدرة المعرفية - كمي

4

يخصم من راتب موظف غياب يوم كامل إذا تجاوز تأخيره مدة ٧ ساعات فبعد ساعات فبعد كم يوم يخصم من راتب الموظف إذا كان يتأخر يومياً ١٢ دقيقة؟

٥٥ d

٤٥ c

٣٥ b

٢٥ a



## حل أسئلة الاختبار

القدرة المعرفية – كمية

5 الحديقة اللي يتم حصادها على اسبوعين الاسبوع الاول عدد التالف ٤٪ والثاني التالف ١٠٪ بعد حساب المتبقي من الاسبوع الاول ومجموع التفاحات اللي جنوها ١٠٠٠ تفاحه كم عدد التفاحات الصالحة؟

الإجابة : ٩٣٠

## حل أسئلة الاختبار

القدرة المعرفية – كمية

6 اشترى ٢٠ جهاز حاسب الآلي ومعها طابعات كلها بقيمة ٥٠ ألف مع العلم ان سعر الطابعة الواحدة ١٠ الاف كم سعر أجهزة؟

الإجابة : ٦٠٠٠

## حل أسئلة الاختبار

القدرة المعرفية – كمية

رجل ترك مبلغ ١٠٠٠٠٠٠ وزوجته تأخذ الثمن (واحد على ثمانية) كم يكون المبلغ الذي ترثه بالريال؟

7

a

b

c

١٢٥٠٠

d

## حل أسئلة الاختبار

القدرة المعرفية - كمي

عدنان مجموعهم ٥٠ وتقسم الأكبر على الأصغر يساوي ٢ والباقي ٥ كم هو العدد الأكبر؟

8

a ٤٥/١

b ٣٥/٢

c ٤٠/٣

d ٣٩/٤

## حل أسئلة الاختبار

القدرة المعرفية – كمية

طول الاب ١٨٠ وولده يساوي  $\frac{4}{5}$ :

9

١٤٤ a

١٤٠ b

١٥٠ c

١٥٥ d

## حل أسئلة الاختبار

القدرة المعرفية – كمية

الاعداد الأولية فرديه ماعدا ٢ والاعداد الزوجية الغير اوليه ماعدا ٢:

10

a ٢ عدد فردي

b ٢ عدد زوجي

c ٢ عدد اولي فردي

d ٢ عدد اولي زوجي

## حل أسئلة الاختبار

القدرة المعرفية – كمية

11 إذا علمت أن أحمد يملك مبلغ ٤٠٠٠ ريال واراد الاكتاب بالأسهم إذا كان سعر السهم الواحد ٢٥ ريال كم يستطيع شراء  
سهم؟

٣٥ d

٢٦ c

٤٢ b

١٦٠ a

## حل أسئلة الاختبار

القدرة المعرفية – كمية

إذا كان عدد طلاب مدرسه ٥٠ طالب نجح منهم ٣٠ طالب فان نسبة الناجحين للعدد الكلي هو:

12

a %٦٠

b %٥٠

c %٧٠

d %٤٥



## حل أسئلة الاختبار

القدرة المعرفية – كمية

13

يحتسب أحد البنوك ١,٥ ريال رسوم على كل عملية سحب بالصراف الآلي من غير الصراف الخاص بالبنك، فإذا قام محمد بـ ١٥ عملية سحب بالصراف الآلي ثلثها عن طريق صراف بنكه فما هو إجمالي مبلغ الرسوم؟

٣٥ d

٢٨ c

١٥ b

١٠ a

## حل أسئلة الاختبار

القدرة المعرفية – كمية

شخص ساهم في مبلغ ٤٠٠٠ ريال وسعر السهم ٢٥ ريال، كم عدد الأسهم؟

14

١٦٠ a

١٧٥ b

١٨٧ c

١٩٥ d

## حل أسئلة الاختبار

القدرة المعرفية – كمية

لدى فهد مبلغ ١٢٠٠ ريال، أنفق ربع المبلغ وبعد أسبوع أنفق نصف ما معه، كم ريال تبقى لديه؟

15

٤٥٠ a

٥٠٠ b

٥٥٠ c

٦٠٠ d

## حل أسئلة الاختبار

القدرة المعرفية – كمية

16 إذا كان الموظف يحصل على كل ساعة عمل إضافية ١٣٠ ريال فكم ساعة إضافية كي يحصل على ١٩٥٠ ريال؟

٢٥ d

٢٢ c

٢٠ b

١٥ a

## حل أسئلة الاختبار

القدرة المعرفية – كمية

عددين مجموعهم ٥٠ وخارج قسمتهم يساوي ٢ والباقي ٥، كم العدد الكبير؟

17

٣٥ a

٢٥ b

١٥ c

١٠ d

## حل أسئلة الاختبار

القدرة المعرفية - كمية

18 إذا كان سعر عصير بـ ٣ ريالاً كم عدد العصيرات التي يمكن شراؤها بمبلغ ٥٠ ريال؟

٢٥ d

٢١ c

١٧ b

١٦ a

## حل أسئلة الاختبار

القدرة المعرفية – كمية

19 موظف يحصل على معاملة (أ) ١٠٠ ريال ومعاملة (ب) ٦٠ ريال إذا كان مجموع ما حصل عليه ٤٨٠ ريال فكم عدد ما انجزه من معاملة (أ)؟

٤ d

٣ c

٢ b

١ a

## حل أسئلة الاختبار

شمعة احترق منها ٢٠٪ بقي منها ١٢ سم كم طولها الأصلي؟

20

١٣ a

١٥ b

١٨ c

١٦ d



## حل أسئلة الاختبار

القدرة المعرفية – كمية

21 شمعتين طول كل واحدة ٣٠ سم مصنوعتين من مادتين مختلفتين، الأولى تحترق بسرعة ثلاث مرات عن الثانية، إذا الأولى احترقت النصف كم احترق من الثانية؟

٢٠ d

١٥ c

١٠ b

٥ a

## حل أسئلة الاختبار

القدرة المعرفية – كمية

22 شركة تقوم ببيع الماء من صفر إلى ٦٠ يتم حساب اللتر ريال لكل متر مكعب ومن ٦٠ إلى ٩٠ لتر تحسب الشركة اللتر ٤ ريال لكل متر مكعب، خالد استهلك ٧٢ لتر كم تصبح فاتورته؟

١٤٢ d

٩٦ c

١٠٨ b

٨٦ a

## حل أسئلة الاختبار

٢٣ ١٠٠ شهر كم سنه فيها؟

a ٩ سنوات

b ٩ سنوات و ٤ أشهر

c ٨ سنوات

d ٨ سنوات و ٥ أشهر

## حل أسئلة الاختبار

القدرة المعرفية – كمية

شخص صرف من راتبه الخمس وتبقى ١٠٠٠ ريال فكم مجموع الراتب؟ 24

١٣٠٠ d

١٥٠٠ c

١٢٥٠ b

٢٥٠٠ a

٢٠ ، ٢٥ ، ٢١ ، ٢٤ ، ٢٢ ، ٢٣ ، .....

25

٢٦

d

٢٣

c

٢٤

b

٢٥

a



920033076



966539412412



hemma.sa



@Qu\_gameen

## حل أسئلة الاختبار

٥ ، ٦ ، ٨ ، ٩ ، ١١ ، ١٢ ، ...

26

١٨ d

٢٤ c

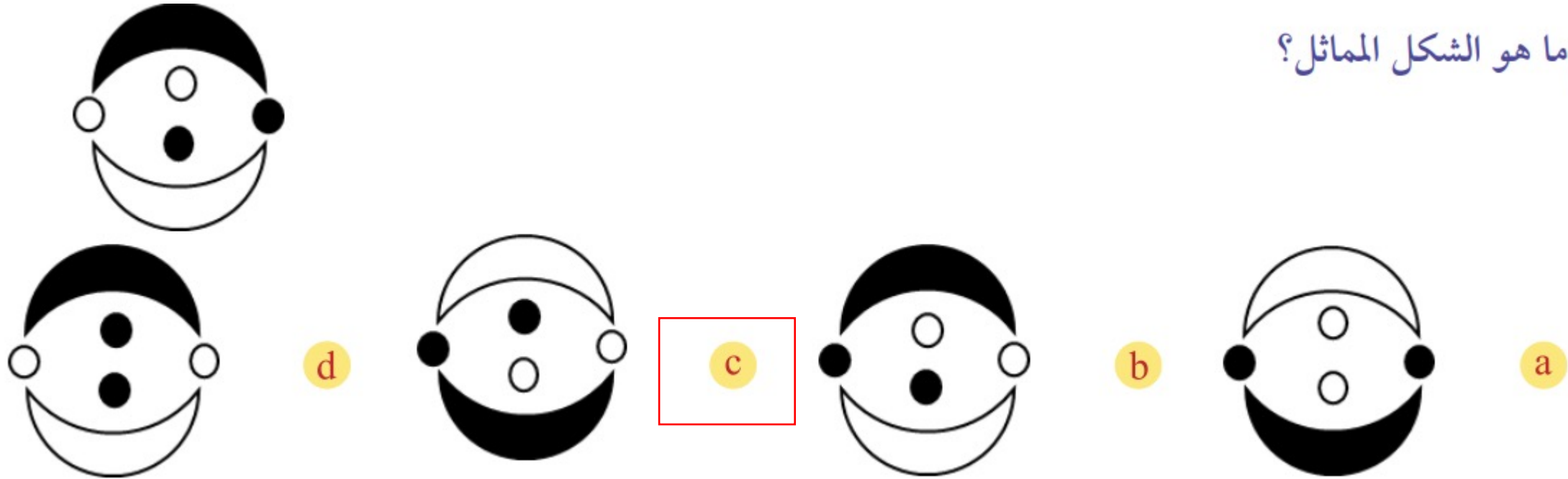
١٢ b

١٤ a

## حل أسئلة الاختبار

القدرة المعرفية - كمي

27 ما هو الشكل المماثل؟



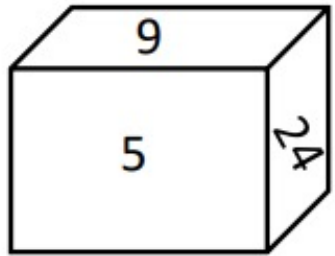
## حل أسئلة الاختبار

القدرة المعرفية - كمية

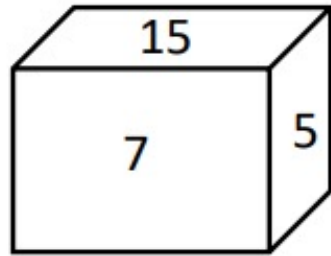
28 ما هو المكعب المطابق؟

28

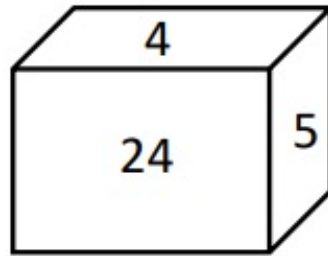
4			
24	5	7	9
15			



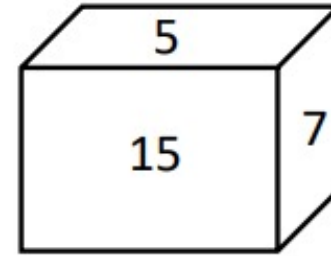
d



c



b



a

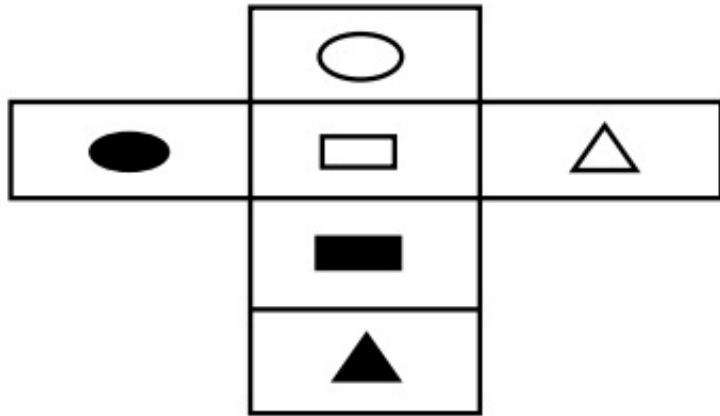


## حل أسئلة الاختبار

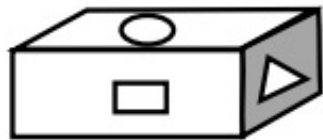
القدرة المعرفية - كمية

29

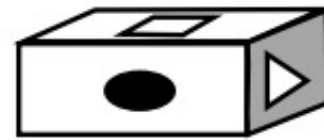
هناك شكل في الأعلى مفرد أو مفتوح ويمكن طيه ليصبح على شكل صندوق.  
المطلوب منك أن تتخيل شكل الصندوق الناتج عن طي الشكل المفرد من  
خلال أحد الخيارات التالية له:



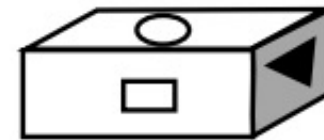
d



c

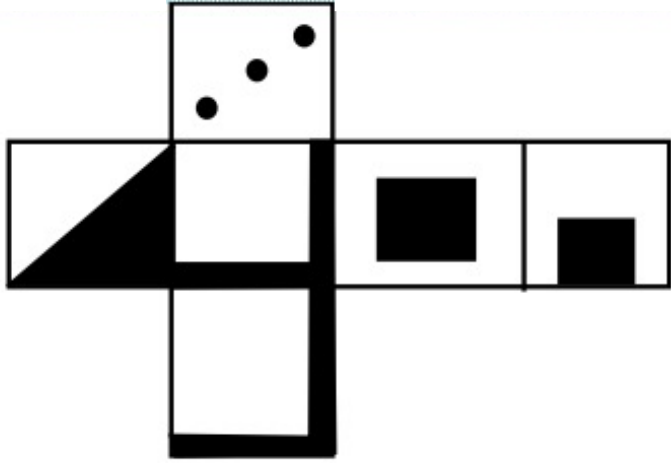


b



a

طبي المكعب: 30




d



c



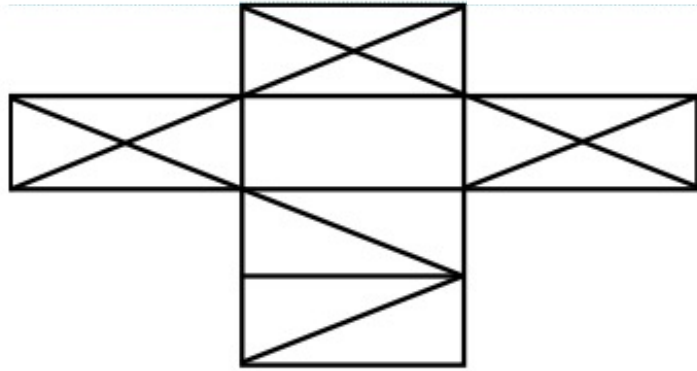
b



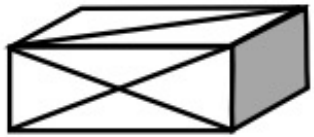
a

## حل أسئلة الاختبار

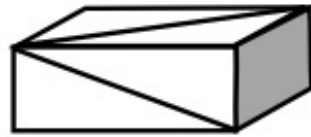
القدرة المعرفية - كمية



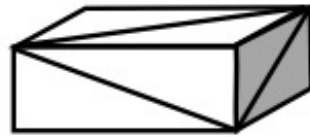
31 هناك شكل في الأعلى مفرد أو مفتوح ويمكن طيه ليصبح على شكل صندوق. المطلوب منك أن تتخيل شكل الصندوق الناتج عن طي الشكل المفرد من خلال أحد الخيارات التالية له:



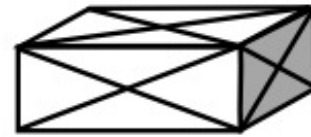
d



c



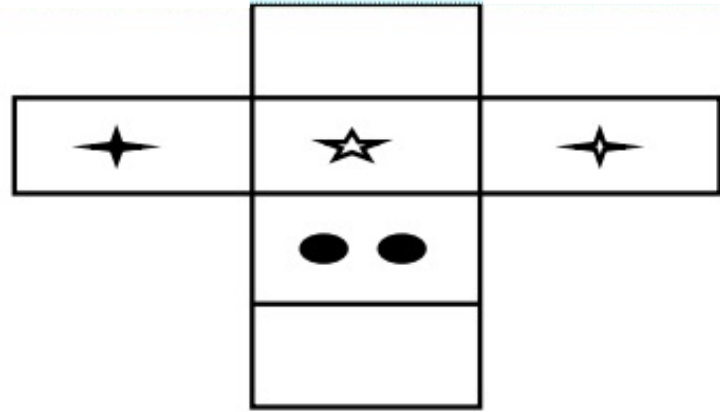
b



a

## حل أسئلة الاختبار

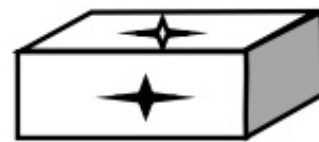
القدرة المعرفية - كمية



32 هناك شكل في الأعلى مفرد أو مفتوح ويمكن طيه ليصبح على شكل صندوق. المطلوب منك أن تتخيل شكل الصندوق الناتج عن طي الشكل المفرد من خلال أحد الخيارات التالية له:



c



b



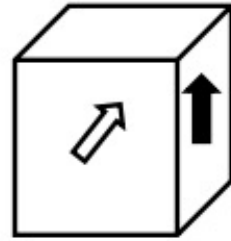

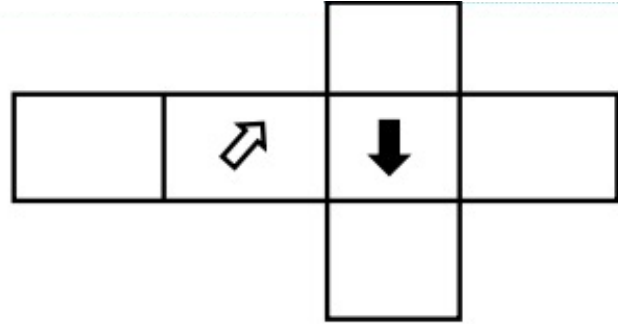
a

## حل أسئلة الاختبار

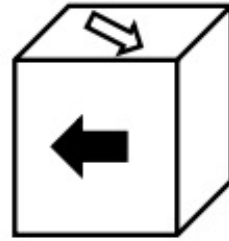
القدرة المعرفية - كمي

ما هو المكعب المطابق؟

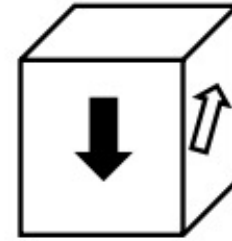
33



c



b



a

## حل أسئلة الاختبار

### القدرة المعرفية – كمية

الجدول التالي يمثل المستوي التحصيلي القبلي والبعدي لطلاب أربع مدارس. ادرس البيانات الواردة فيه ثم أجب عن الأسئلة التالية:

مدرسة (٤)	مدرسة (٣)	مدرسة (٢)	مدرسة (١)	المادة	
٨٠	٨١	٧٧	٨٣	قبلي	حاسب
٩١	٩٢	٨٨	٩٤	بعدي	
٧٧	٧٦	٧٤	٧٥	قبلي	علوم
٩٢	٩١	٨٩	٩٠	بعدي	
٨٦	٧٠	٧٤	٨٦	قبلي	أحياء
٩٤	٨٧	٩٠	٩٥	بعدي	
٨٧	٧٥	٧٠	٨١	قبلي	رياضيات
٩٥	٨٠	٨٨	٩٣	بعدي	

## حل أسئلة الاختبار

القدرة المعرفية – كمية

في أي مادة الفرق بين القبلي والبعدي هو الأكبر؟

34

a حاسب

b أحياء

c علوم

d رياضيات

مدرسة (٤)	مدرسة (٣)	مدرسة (٢)	مدرسة (١)	المادة	
٨٠	٨١	٧٧	٨٣	قبلي	حاسب
٩١	٩٢	٨٨	٩٤	بعدي	
٧٧	٧٦	٧٤	٧٥	قبلي	علوم
٩٢	٩١	٨٩	٩٠	بعدي	
٨٦	٧٠	٧٤	٨٦	قبلي	أحياء
٩٤	٨٧	٩٠	٩٥	بعدي	
٨٧	٧٥	٧٠	٨١	قبلي	رياضيات
٩٥	٨٠	٨٨	٩٣	بعدي	

## حل أسئلة الاختبار

القدرة المعرفية – كمية

ما هي المادة التي تحسنت درجات الطلاب فيها واستفادوا من التدريب؟

35

a حاسب

b أحياء

c علوم

d رياضيات

مدرسة (٤)	مدرسة (٣)	مدرسة (٢)	مدرسة (١)	المادة	
٨٠	٨١	٧٧	٨٣	قبلي	حاسب
٩١	٩٢	٨٨	٩٤	بعدي	
٧٧	٧٦	٧٤	٧٥	قبلي	علوم
٩٢	٩١	٨٩	٩٠	بعدي	
٨٦	٧٠	٧٤	٨٦	قبلي	أحياء
٩٤	٨٧	٩٠	٩٥	بعدي	
٨٧	٧٥	٧٠	٨١	قبلي	رياضيات
٩٥	٨٠	٨٨	٩٣	بعدي	



## حل أسئلة الاختبار

القدرة المعرفية – كمية

في أي مادة الفرق بين القبلي والبعدي هو الأقل؟

36

a حاسب

b أحياء

c علوم

d رياضيات

مدرسة (٤)	مدرسة (٣)	مدرسة (٢)	مدرسة (١)	المادة	
٨٠	٨١	٧٧	٨٣	قبلي	حاسب
٩١	٩٢	٨٨	٩٤	بعدي	
٧٧	٧٦	٧٤	٧٥	قبلي	علوم
٩٢	٩١	٨٩	٩٠	بعدي	
٨٦	٧٠	٧٤	٨٦	قبلي	أحياء
٩٤	٨٧	٩٠	٩٥	بعدي	
٨٧	٧٥	٧٠	٨١	قبلي	رياضيات
٩٥	٨٠	٨٨	٩٣	بعدي	

## حل أسئلة الاختبار

القدرة المعرفية – كمية

ما هي المدرسة التي استفادت استفادة كبيرة من التدريب؟

37

a مدرسة (١)

b مدرسة (٣)

c مدرسة (٢)

d مدرسة (٤)

مدرسة (٤)	مدرسة (٣)	مدرسة (٢)	مدرسة (١)	المادة	
٨٠	٨١	٧٧	٨٣	قبلي	حاسب
٩١	٩٢	٨٨	٩٤	بعدي	
٧٧	٧٦	٧٤	٧٥	قبلي	علوم
٩٢	٩١	٨٩	٩٠	بعدي	
٨٦	٧٠	٧٤	٨٦	قبلي	أحياء
٩٤	٨٧	٩٠	٩٥	بعدي	
٨٧	٧٥	٧٠	٨١	قبلي	رياضيات
٩٥	٨٠	٨٨	٩٣	بعدي	

## حل أسئلة الاختبار

القدرة المعرفية – كمية

ما هي المدرسة التي حصلت علي أعلى مجموع الدرجات؟

38

a مدرسة (١)

b مدرسة (٣)

c مدرسة (٢)

d مدرسة (٤)

مدرسة (٤)	مدرسة (٣)	مدرسة (٢)	مدرسة (١)	المادة	
٨٠	٨١	٧٧	٨٣	قبلي	حاسب
٩١	٩٢	٨٨	٩٤	بعدي	
٧٧	٧٦	٧٤	٧٥	قبلي	علوم
٩٢	٩١	٨٩	٩٠	بعدي	
٨٦	٧٠	٧٤	٨٦	قبلي	أحياء
٩٤	٨٧	٩٠	٩٥	بعدي	
٨٧	٧٥	٧٠	٨١	قبلي	رياضيات
٩٥	٨٠	٨٨	٩٣	بعدي	

## القدرة المعرفية - لفظي

## حل أسئلة الاختبار

مرادف ندم :

A. اسف

B. اعتذر

C. تبدل

D. تغير

## حل أسئلة الاختبار

مرادف قسَرَ

A. أكره

B. كسر

C. كتب

D. ضاق

لا تجعل المال هدفك في الحياه بل وسيلة لان المال صديقك اذا ... واعدوك اذا ...

A. ادخرته - ابليته

B. جمعته - أنفقته

C. استخدمته - خدمته

D. بعدته - قربته

## حل أسئلة الاختبار

الطبقة الاجتماعية هي ذلك القطاع من المجتمع الذي يضم مجموعة من .....  
الذين يتصفون بقدر كبير من ..... في مكائهم الاجتماعية

A. الأفراد-التواضع

B. الأفراد-التجانس

C. البشر-الشفافية

D. البشر-الواقعية



المترجم هو في الحقيقة ..... آخر ، غير أن .... يصوغها هي من نتاج غيره

A. مؤلف - الأفكار

B. شخص - مشاعره

C. مبدع - الألغاز

D. كاتب - المفردات

## حل أسئلة الاختبار

يعرف الوقت بأنه مجموعة أحداث ..... من الماضي للحاضر،  
فالمستقبل من خصائصه أنه مورد ..... يملكه ..... بالمقدار نفسه.

A. متقابلة-نفيس-القليلون

B. متوازنة-خاص-المقصرون

C. متتابعة-عادل-الجميع

D. متباينة-متغير-المبدعون

دقيقة واحدة تقضيها في ..... توفر عليك ساعات في .....

A. العمل-التخطيط

B. التدبير-التفكير

C. المراقبة-الترتيب

D. التخطيط -التنفيذ

## حل أسئلة الاختبار

إذا كانت الأندية (أ،ب،ج،د) تلعب في الدوري وجميعهم لعبوا ثلاث مباريات فقط ،  
وفاز الفريق "ب" في مباراتين،وتعادل الفريق "ج" في ثلاث مباريات  
،فهذا يعني أن.....

A. الفريق "د" في المركز الأخير

B. الفريق "ج" خسر جميع مبارياته

C. الفريق "ب" لم يخسر أي مباراة

D. الفريق "أ" في المركز الأول

وضع زيد أسئلة اختبار مادة الرياضيات ، وكانت الأسئلة شاملة لجميع مستويات الطلاب إذا:

- A. أسئلة الرياضيات ليست صعبة
- B. زيد صحح اختبار مادة الرياضيات
- C. بعض أسئلة الرياضيات سهلة
- D. يمكن لزيد وضع أسئلة أي مادة

كرمت مدرسة جميع المتفوقين خلال السنة الدراسية وجميع المدعوين متفوقين .  
وكان فهد ضمن المدعوين للتكريم وخالد يدرس مع فهد

A. فهد من المتفوقين

B. خالد من المتفوقين

C. فهد وخالد من المتفوقين

D. خالد ضمن المدعوين

## حل أسئلة الاختبار

أحياناً لابد أن يكون الثناء ..... على الإنجازات التي تستحق.....  
لتشجيع أصحابها والحث على ..... بهم

- A. سرياً-المدح-الاقتداء
- B. جماعياً-الثناء-الوثوق
- C. علنياً-الإطراء-الاحتذاء
- D. فردياً-الملاحظة-الافتخار

كي تصبح صديقاً حقيقاً... عن الزلة وتغاض عن .....

A. تغافل-الاساءة

B. تغاض-العثرة

C. ابعـد-الغلظة

D. أرض-الهفوة



زيد اقصر من عمر خالد اقصر من زيد سعيد أطول من عمر عاصم أطول من زيد

- A. عاصم اقصر من خالد  
B. كل من خالد وعمر اقصر من زيد  
C. سعيد اطول من زيد  
D. عاصم وعمر لهما الطول نفسه

# حل أسئلة الاختبار

مرادف املاق :

الفقر

## حل أسئلة الاختبار

### القدرة المعرفية - لفظي

يعد القائد الإداري هو المركز والمحك الفاعل للأتباع الذين يمثلون القاعدة الهرمية لأي مؤسسة تسعى لتحقيق الأهداف المرجوة من إنشائها سواء كانت ربحية أو خيرية أو فكرية، وعليه فإن المؤسسة تحدد الخطوات العريضة من خلال القائد الذي التصقت به القيادة بصفات شخصية؛ لاستمالة القاعدة الهرمية من أجل تحقيق وإنجاز الأعمال المبتغاة منهم، وبالتالي فإن القيادة الشخصية هي عملية تأثير من القائد على الجماعة بشكل مباشر، تنمو هذه القيادة من داخل الجماعة للوصول إلى الأهداف المرجوة. وعلى القائد في قيادته للفريق أن يتمتع بالتبادلية والتحويلية وهما أسلوبا قيادة عصري يقود بالنهاية للإنجاز، ويتمحور هذان العنصران حول كيفية التعامل مع الأتباع، فعموم القادة الذين يركزون على التبادلات بينهم وبين أتباعهم يسمون بالقادة التبادليين فالعلاقة تبادلية المنفعة، فالقائد يحفز أفراد فريقه من خلال بعض الوعود التي يطمع بها الفريق ليحصل على مبتغاه المتمثل بتحقيق إنجاز المهام المسندة لهذا الفريق وهم بالمقابل يعملون للحصول على الوعود في حال حققوا العمل.

2/ أما القائد التحويلي فهو القائد المتخصص الذي يتحكم بدوافع ورغبات الأتباع كي يتمكنوا من تحقيق غايات وطموحات مؤسسته، ويكون ذلك من خلال تقوية الروابط الأخلاقية والاجتماعية بينه وبينهم.

3/ أما القائد المسيطر فالأدوار لديه تعتمد على القوة والثواب والعقاب ولكنه لا يستخدمها بصورة متسقة وإنما كما يراها، ولا يولي اهتماما بالأتباع، ومن أنواع القادة الفوضوي حيث لا يمارس دور القيادة بل يترك الحرية المطلقة للأفراد، وتسير الأمور بشكل عشوائي

وفقاً للنص: الغاية من العلاقة بين القيادة والأتباع هي تحقيق:

- A. العلاقات
- B. المنافع
- C. النظام
- D. الأهداف

## حل أسئلة الاختبار

وفقاً للنص: قائد يولي اهتمامه بالإبداع، وقائد آخر يحفز أتباعه بالوعود "هذان القائدان على الترتيب هما:

- A. الفوضوي - المسيطر
- B. المتخصص - التبادلي
- C. التبادلي - المسيطر
- D. المسيطر - التبادلي

# حل أسئلة الاختبار

تجميعات القدرة المعرفية القسم اللفظي

# حل أسئلة الاختبار

(1) صادر ضدها:

(أ) وارد

(ب) ماضٍ

(ج) مصنوع

(د) مرسل

# حل أسئلة الاختبار

(2) ضد تأليب:

(أ) تهدئة

(ب) تحريض

(ج) بعثرة

(د) تهيبج

# حل أسئلة الاختبار

(3) يرادف وخيمة:

(أ) متأرجحة (ب) مظلمة (ج) نافعة (د) ضارة



# حل أسئلة الاختبار

(4) لتكن حجتك ..... ؛ ولكن لا ..... في إطلاق الأحكام.

(ب) جاهزة - تتأخر

(أ) حاضرة - تتعجل

(د) زاهية - تتسرع

(ج) ثابتة - تتمهل

# حل أسئلة الاختبار

(5) أفل يرادفها:  
(أ) حضر

(ب) غاب

(ج) ضحك

(د) سبح

# حل أسئلة الاختبار

(6) الوهن يرادفها:

(أ) الضعف

(ب) قوة

(ج) المهم

(د) العظمة

## حل أسئلة الاختبار

(7) يستحق الموظف الجديد الحصول على إجازة بعد ستة أشهر من مباشرته للعمل ، والإجازة السنوية للموظف ٣٦ يوماً:

(أ) الموظف الجديد لا يحصل على إجازة.

(ب) الموظف يستحق الإجازة بعد ستة أشهر من بداية العام.

(ج) الموظف القديم يحصل على إجازته في أي وقت من العام.

(د) يمكن للموظف أن يحصل على إجازة أكثر من 36 يوماً في العام.

## حل أسئلة الاختبار

(8) قد تستطيع بالكلام ..... أن ..... محاورك ؛ لكنك لن تستطيع إقناعه .....

(ب) الحازم - تستفز - بشخصك

(أ) العذب - ترضي - بصدقك

(د) المنفعل - تسكت - برأبك

(ج) الواثق - تشكك - بأدائك

## حل أسئلة الاختبار

(9) يتعلم الحكيم من أخطاء ..... ويتعلم غيره من أخطاء ..... ، ومن لا يتعلم من هذين الشيئين ..... أن يتعلم.

(أ) نفسه - الحكيم - محال

(ب) غيره - الحكيم - صعب

(ج) نفسه - نفسه - محال

(د) غيره - نفسه - صعب

## حل أسئلة الاختبار

(10) الموظف هو ..... التي يركز عليها بناء ثروة الوطن وهو اليد التي ..... عجلة العمل.

(أ) القاعدة - تثبت

(ب) الدعامة - تدير

(ج) الأساس - تمشي

(د) الإدارة - تنجح

## حل أسئلة الاختبار

- (11) مهند وفيصل وعمار وفهد ونواف يسكنون في 3 مناطق بالمملكة العربية السعودية. وعمار لا يسكن في نفس المنطقة التي يسكن فيها فيصل، وفيصل ونواف يسكنون في منطقة واحدة، وفهد لا يسكن في نفس المنطقة التي يسكن فيها نواف، ومهند لا يسكن مع فيصل في منطقة واحدة، فأى العبارات صحيحة؟
- (أ) فهد يسكن مع فيصل في منطقة واحدة
- (ب) فهد لا يسكن مع عمار في منطقة واحدة
- (ج) فهد ومهند يسكنون مع عمار في منطقة واحدة
- (د) عمار لا يسكن مع نواف في منطقة واحدة



## حل أسئلة الاختبار

(12) سيارة تكفي أربعة أشخاص كان ناصر يركب بجانب السائق، ومنصور في الخلف، وسعد أمام خالد، فمن السائق؟

(د) منصور

(ج) سعد

(ب) ناصر

(أ) خالد

# حل أسئلة الاختبار

(13) ضد بنحس:

(أ) سمين

(ب) قليل

(ج) باهظ

(د) سليم

# حل أسئلة الاختبار

(14) لا ..... بسوء الحظ، فلا يوجد ..... من غير جهد، فلا تتوهم أن سوء الحظ .....

لك

(أ) تتمسك - إنجاز - عذر

(ب) تتعلق - تقدم - مخرج

(ج) تتعلل - تفوق - عائق

(د) تعتذر - ارتقاء - معين

# حل أسئلة الاختبار

(15) ضد الشائق:

(أ) المحب

(ب) المبغض

(ج) المتدني

(د) المخيف

# حل أسئلة الاختبار

- (16) يزيد نجح في جميع المواد ما عدا الفيزياء ، وحمد رسب في جميع المواد ما عدا الرياضيات:
- (أ) يزيد رسب في مادة الرياضيات.
- (ب) يزيد وحمد نجحا في مادة الرياضيات.
- (ج) حمد نجح في مادة الفيزياء.
- (د) يزيد أفضل من حمد في جميع المواد.

# حل أسئلة الاختبار

(17) محمد يذهب للمشي يومياً ، مضمار المشي قريب من منزل محمد:

(أ) محمد جسمه رشيق جداً.

(ب) محمد يمشي في مضمار المشي يومياً.

(ج) لا يوجد يوم لا يمشي فيه محمد.

(د) مضمار المشي يوجد به أناس كثيرون.

# حل أسئلة الاختبار

(18) لا يسلم الإنسان من ..... لأن الله ..... بهذه الصفة.

(أ) الضعف - خلقه.

(ب) الشقاء - حباه.

(ج) القلق - أوجده

(د) العزم - برأه

## حل أسئلة الاختبار

(19) خالد عمره 15 سنة ومن شروط الحصول على بطاقة الأحوال أن يكون العمر 15 سنة. أي العبارات التالية صحيحة؟

- (أ) أخو خالد الأكبر لديه بطاقة أحوال  
(ب) أخو خالد الأصغر ليس لديه بطاقة أحوال  
(ج) أخوة خالد لديهم بطاقة أحوال  
(د) أخوة خالد لا يملكون بطاقة أحوال



## حل أسئلة الاختبار

(20) النفط أو النفط الخام؛ عبارة عن سائل باللون الأسود، أو البني الغامق، أو الأصفر أحياناً، حيث يعتمد اللون على المكونات الداخلية للسائل، يتواجد بشكل طبيعي في طبقات الأرض، أو قد يكون مختلطاً بالرمال، وهو مزيج معقد من الهيدروكربونات، والغاز الطبيعي، وشمع البارافين، ويحتوي على عناصر غير معدنية، مثل: الكبريت، والأكسجين، والنيتروجين. يوجد النفط في أعماق الأرض، ونتيجة للضغط العالي يبدأ بالتدفق بشكل بطيء نحو السطح، حيث يكون الضغط أقل، ويستمر هذا التدفق حتى يصادف النفط طبقة غير منفذة من الصخور، وهناك يبدأ بالتجمع داخل الخزانات الموجودة على بعد عدة أمتار من سطح الأرض، ويتم تحديد أماكن الخزانات من قبل علماء الكيمياء والجيولوجيا عن طريق دراسة الهياكل الصخرية تحت الأرض، واستخدام أجهزة الاستشعار لتحديد التخطيط الجيولوجي للأرض، وبعد ذلك يتم حفر الآبار باستخدام حفارات نفطية، وبشكل عمودي نحو مصدر النفط.

كيف يستخرج النفط؟

(أ) عن طريق الضغط

(ب) عن طريق الحفر

(ج) عن طريق الحرارة

(د) عن طريق الدفع

## حل أسئلة الاختبار

(21) النفط أو النفط الخام؛ عبارة عن سائل باللون الأسود، أو البني الغامق، أو الأصفر أحياناً، حيث يعتمد اللون على المكونات الداخلية للسائل، يتواجد بشكل طبيعي في طبقات الأرض، أو قد يكون مختلطاً بالرمال، وهو مزيج معقد من الهيدروكربونات، والغاز الطبيعي، وشمع البارافين، ويحتوي على عناصر غير معدنية، مثل: الكبريت، والأكسجين، والنيتروجين. يوجد النفط في أعماق الأرض، ونتيجة للضغط العالي يبدأ بالتدفق بشكل بطيء نحو السطح، حيث يكون الضغط أقل، ويستمر هذا التدفق حتى يصادف النفط طبقة غير منفذة من الصخور، وهناك يبدأ بالتجمع داخل الخزانات الموجودة على بعد عدة أمتار من سطح الأرض، ويتم تحديد أماكن الخزانات من قبل علماء الكيمياء والجيولوجيا عن طريق دراسة الهياكل الصخرية تحت الأرض، واستخدام أجهزة الاستشعار لتحديد التخطيط الجيولوجي للأرض، وبعد ذلك يتم حفر الآبار باستخدام حفارات نفطية، وبشكل عمودي نحو مصدر النفط.

النفط يوجد تحت الأرض على شكل:

- (أ) حقول (ب) سوائل (ج) مواد صلبة (د) غازات

## حل أسئلة الاختبار

(22) النفط أو النفط الخام؛ عبارة عن سائل باللون الأسود، أو البني الغامق، أو الأصفر أحياناً، حيث يعتمد اللون على المكونات الداخلية للسائل، يتواجد بشكل طبيعي في طبقات الأرض، أو قد يكون مختلطاً بالرمال، وهو مزيج معقد من الهيدروكربونات، والغاز الطبيعي، وشمع البارافين، ويحتوي على عناصر غير معدنية، مثل: الكبريت، والأكسجين، والنيتروجين. يوجد النفط في أعماق الأرض، ونتيجة للضغط العالي يبدأ بالتدفق بشكل بطيء نحو السطح، حيث يكون الضغط أقل، ويستمر هذا التدفق حتى يصادف النفط طبقة غير منفذة من الصخور، وهناك يبدأ بالتجمع داخل الخزانات الموجودة على بعد عدة أمتار من سطح الأرض، ويتم تحديد أماكن الخزانات من قبل علماء الكيمياء والجيولوجيا عن طريق دراسة الهياكل الصخرية تحت الأرض، واستخدام أجهزة الاستشعار لتحديد التخطيط الجيولوجي للأرض، وبعد ذلك يتم حفر الآبار باستخدام حفارات نفطية، وبشكل عمودي نحو مصدر النفط.

يتم اكتشاف النفط عن طريق:

- (أ) حفر سطح الأرض (ب) فحص سطح الأرض (ج) فحص باطن الأرض (د) الحفر إلى عمق الأرض

## حل أسئلة الاختبار

(23) جميع الطلاب في المدرسة يحبون القراءة، وفي المدرسة طلاب يحبون السباحة، الجملة الصحيحة فيما يلي:

(أ) الطلاب الذين يحبون القراءة يحبون السباحة.

(ب) جميع الطلاب يحبون السباحة.

(ج) الطلاب الذين يحبون السباحة يحبون القراءة.

(د) محبو السباحة في المدرسة أكثر من محبي القراءة.

# حل أسئلة الاختبار

مع خالص الدعاء لكم بالتوفيق