



تجميع

اختبار القدرة المعرفية

1439/11/24

القدرة المعرفية العامة



لوظائف السلم العام في نظام الخدمة المدنية في المملكة
إداريين وإداريات



إعداد

أعضاء مجموعة القدرة المعرفية على التليجرام



القدرة المعرفية

2890 members

المترادفات و المتضادات

مرادفها	الكلمة
بال	رث
شك	ريبة
طويلات	باسقات
وفاق	ونام
إكراه	قسر
عاليه	سامقة
الطيش	النزق

سقطه	كبوه
تسوية	مقاصة
الظلم	الاجحاف
الحق	اليقين
هز	زحزح
موافقة	موائمة
خالص	محض
العتيق	البالي

ظلمة	حكمة
عطاء	نوال
تأكيد	تثبيت
رجع	نكص
استولى	استحوذ
حقيق	جدير
تخويف	تهويل
أحرى	أجدر
فسد	حبط

الكلمة	مرادفها
تهوين	تسهيل
جرد	رث
شيص	رديء
احتفل	اجتمع
ركون	اعتماد
تطهير	تصفية
مقت	بغض
يفند	يبطل

جوع	ضرم
عزم	همه
تجهز	تأهب
بغض	مقت

ضدها	الكلمة
ظهر	تواری
خفت	تألق
أمن	رهبه

قديم	قشيب
تهدئه	تأليب
أشفق	جار
أظهر	كظم
الذاتية	الموضوعية
غبي	حصيف
خصوبة	جذب
انتصار	تشبيط

تحقير	تجليل
ضدها	الكلمة
راحة	وصب
قلل	أغزر
كبيرة	لم
أقلت	قبض
النيء	المطبوخ
يقين	ريبة

الإستدلال اللفظي

إكمال الجمل :

١ : الطبقة الاجتماعية هي ذلك القطاع من المجتمع الذي يضم مجموعة من الذين يتصفون بقدر كبير من في مكانتهم الاجتماعية.

أ- الافراد- التواضع

ب- الافراد - التجانس

ج- البشر - الشفافية

د- البشر - الواقعية

٢ : دقيقة واحدة تقضيها في توفر عليك ساعات في

أ- العمل - التخطيط

ب- التدبير- التفكير

ج- المراقبة - الترتيب

د- التخطيط - التنفيذ

٣ : نخاف من كل شيء ومن أي شيء حتى من أوقات نخاف عليها من

الجواب

السعادة - النهاية

٤ : يتعلم الحكيم من اخطاء و يتعلم غيره من اخطاء و من لا يتعلم من هالشيئين ان يتعلم.

ب- نفسه، نفسه، محال

أ- نفسه ، الحكيم ، محال

د- غيره، الحكيم، صعب

ج- غيره، نفسه، صعب

٥: لا بسوء الحظ ، فلا يوجد من غير جهد ، فلا تتوهم أن سوء الحظ لك.

أ- تتمسك - انجاز - عذر

ب- تتعلق - تقدم - مخرج

ج- تتعلل - تفوق - عائق

د- تعتذر - أرتقاء - معين

٦: يجب أن ينظر المدير إلى الإدارة كوحدة وألا تحجبه رؤية عن رؤية

أ - متوازنة - الأصول - الفروع

ب - متكاملة - الجزئيات - الكليات

ج - مستقلة - السلبيات - الايجابيات

د- موضوعية - النجاحات - الإخفاقات

٧: خير لك أن تكون سلحفاة في طريق خير من أن تكون غزال في طريق

أ- طريق الصحيح - طريق الخطأ

٨: أحيانا لابد ان يكون الثناء على الإنجازات التي تستحق لتشجيع أصحابها والحث على بهم.

ب- جماعيا- الثناء - الوثوق
د- فرديا - الملاحظة- الافتخار

أ- سرىا - المدح - الاقتداء
ج- علنيا - الإطراء - الاحتذاء

٩: إذا كنت تؤمن بأن أمامك فحتماً ستجد دوماً من
أكثر المواقف

- أ- مبادرات - تخوفاً - سهولة
- ب- امتيازات- مهرباً- انجازاً
- ج- نجاحات - تردد - رهبة
- د- خيارات- مخرجا -صعوبة

١٠: من فوائد التنظيم ، ان الاعمال يتم توزيعها بشكل وعملي ،
ويقلل من في الاختصاصات ويحدد العلاقات بين افراد المنظمة

- أ- انسابي - الازدواجية
- ب- علمي - التعقيد
- ج- بسيط - التعدد
- د- مدروس - التكديس

١١: قد يرى بعضهم التسامح لكن ثقب أن التسامح يحتاج قوة أكبر
من

- أ- انكسار- الانتقام
- ب- محمدة - البطش
- ج- انتصار - الغضب
- د- انهزام - الصفح

١٢: الوقت هو الاحداث ثم وهو مصدر وهو حق متساوي بين
.....

- أ- المتتابعه - عدل - الجميع
- ب- المتلاحقة - متغير - الناس

الإستيعاب اللفظي

القطعة (١)

تعتبر ظاهرة التبول الليلي حتى سن ٣ سنوات ظاهرة شائعة، وحتى طبيعية. إذا إستمرت هذه الظاهرة بعد سن ٥ سنوات، فيجب التوجه إلى الطبيب من أجل الفحص وتلقي العلاج.

أظهرت الأبحاث الأخيرة أن ١٥% من الأطفال في سن ٦ سنوات يعانون من هذه الظاهرة بدرجات متفاوتة، وأن ١% من الأشخاص فوق سن الـ ١٨ عاما يعانون من التبول الليلي.

تعتبر الحالات التي توجد فيها مشكلة في التبول خلال ساعات اليوم أيضاً، أكثر تعقيداً وتتطلب فحصاً معمقاً، وقد لا تكون مرتبطة بالنوم. من المهم أن يقوم طبيب الأطفال أو طبيب مختص بهذه المشكلة بتشخيصها ومعالجتها.

١: افضل طريقة لعلاج التبول الليلي عند الاطفال هي ؟

أ- العقاب

ب- النفسي

ج- التعزيز

د- الضرب

٢: ما سبب تبول الاطفال ليلا؟

أ- عامل نفسي

ب- تناول كمية كبيرة من الماء

ج- الهلع

د- النوم العميق

٣: العلاقة في اخر جملة من القطعة "فزح الاطفال مصحوبه باضطرابات" علاقة ؟

أ- تعليل

ب- توضيحية

ج- تنوع

د- ترتيب

٤: العلاقة بين تأنيب، تهديد، عقاب

ب- تنوع

د- تضاد

أ- تدرج

ج- ترادف

٥: أنسب عنوان للقطعة؟

ب- علاج مشكلة التبول الليلي

د- اضطرابات النوم عند الاطفال

أ- مشاكل النوم عند الاطفال

ج- حلول تبول الاطفال ليلاً

القطعة (٢)

أحد أنواع اضطرابات الكلام التي تصيب في الغالب الأطفال بين الثانية والخامسة من العمر ، وخاصة الأولاد منهم ، وقد تصيب أيضا البالغين ولكن بنسبة ضئيلة ، ولكنها تختفي في معظم الحالات عندما يكبر الطفل ، ويمكن أن نصفها بأنها عملية إطالة أو تكرار في بعض الكلمات والمقاطع الصوتية التي يصدرها الطفل ، وقد تسبب للطفل مشاكل في التواصل مع الآخرين وقد يلجأ إلى الانطوائية والعزلة جراء هذه الحالة ، لا يوجد علاج شاف للتأتأة ولكن من الممكن أن تؤدي بعض التغييرات السلوكية والتعامل مع الطفل وتدريبه على النطق الصحيح أن يخفف من الأعراض ، ونستعرض سوياً أعراض التأتأة ومظاهرها وطرق علاجها والتخفيف من حدتها في مقالنا .

وقد تكمن المعالجة للأطفال في الوقت المبكر بالتعلم التدريجي في الكلام وذلك بالتعلم على انتظام التنفس تدريجياً والانتقال بين الكلمة والأخرى تدريجياً بمقطع صوتي واحد ومن ثم التوجه إلى الجمل الأكثر تعقيداً ، ومساعدة الطفل على التخفيف من حدة القلق الذي ينتابه جراء تأتأته في الكلام ، ومن الممكن أن يلجأ الطبيب إلى وصف دواء مضاد للقلق أو الاكتئاب إذا كانت حالة المريض تستدعي ذلك.

١: افضل طريقة لعلاج التأتأة عند الاطفال؟

ب- التعلم المبكر

د- التعلم التدريجي

أ- التعلم المباشر

ج- التعلم المتأخر

٢: لتحفيز الطفل على تخفيف التأتأة في الكلام ينصح بالتحدث معه بطريقة؟

أ- بطريق اجباره بالتحدث

ب - بطريق الضغط عليه بالتحدث

ج- بطريقة مطالبة بسرعة الكلام

د- بطريقة ممتعة لجذبه للكلام

٣: اختر العنوان الأمثل للفقرة الأولى؟

أ-صعوبة النطق عند الأطفال

ب-مراحل الكلام عند الاطفال

ج-حلول التأتأة عند الاطفال

د-اضطرابات الكلام عند الأطفال

القطعة (٣)

يتخيل البعض أن العمل من البيت، أو ما يعرف باسم (العمل عن بُعد)، يجعل الموظف قادراً على الاستمتاع بيومه، ينهض من النوم وقتما شاء، ويفطر على راحته، ثم يعمل متى شاء، ويقسم يومه بين العمل والحياة الخاصة، بحيث يستطيع العدل بينهما، ويجمع بين الحسنيين، نفس الراتب، مقابل عمل مريح، فلا إزعاج من زميله الذي يتحدث في الهاتف بصوت عال، ولا مدير يتدخل في كل جزئية من العمل، وفوق كل ذلك يرى أولاده، ويقضى وقتاً أطول معهم، فيشعرون بوجوده، ويشاركونهم حياتهم.

هذا النوع من العمل لم يبدأ حديثاً، بل قامت شركات كبرى مثل (آي بي إم)، بتطبيق هذا النموذج في ألمانيا منذ أكثر من سنوات عشر، وارتفعت نسبة الموظفين العاملين بهذه الطريقة إلى الثلثين، وتبين أن الشركة لم تستطع أن توفر بذلك الكثير من التكاليف الناجمة عن خفض عدد المكاتب المخصصة للموظفين فحسب، بل ارتفعت إنتاجية الموظف، وتحسنت نوعية العمل بصورة ملحوظة.

ظهر جلياً أن الموظف الذي يعمل من بيته، غالباً ما يشعر بأن عليه أن يحقق نتائج ممتازة، لإثبات أن حصوله على ثقة صاحب العمل في مكانها، وأنه يستفيد من الحرية الممنوحة له لصالح العمل، وأن عنده دوماً ما يمكن تسميته بالشعور بالذنب، فلا يسمح لنفسه بالحصول على الاستراحة، التي تضمنها له القوانين، ولا يتوقف من العمل حتى في عطلة نهاية الأسبوع، ويواصل العمل لساعات متأخرة في الليل، وحتى في وقت المرض، لا يرضى أن يتمتع بحقه في الإجازة المرضية، بل يتحمل على نفسه، ليجلس على مكتبه، ويواصل العمل.

كل هذه الظواهر جعلت النقابات العمالية، تتساعل عن كيفية الحيلولة دون انتهاك حقوق الموظف، الذي يتحول إلى مدير صارم في التعامل مع نفسه، ويجعل نفسه مسؤولاً عن تحقيق نتائج أفضل للشركة، حتى ولو كان ذلك على حساب حياته الخاصة، لذلك طالبت النقابات أصحاب العمل، بأن يجري إعادة تأهيل للمديرين، الذين تغيرت مهامهم في ضوء هذا التحول في آلية العمل، بحيث أصبح مطلوباً من المدير الآن أن ينصت إلى صوت الموظف في المكالمات، لكي يطمئن على حالته النفسية والبدنية، وينتبه إلى مواعيد كتابة الرسائل الإلكترونية، وينبه الموظف إلى عدم جواز العمل في منتصف الليل، وإلى أن العمل في الفترة بين الثامنة مساءً والسادسة صباحاً ممنوع، حفاظاً على صحته وعلى حياته الخاصة.

١: الموظف الذي يعمل من بيته يحقق نتائج ممتازة بسبب ؟

- أ- شعوره بالذنب
ب- اهتزاز ثقة مديره به
ج- عدم شعوره بالحرية
د- تمتعه بالاجازة المرضية

٢: اي من الخيارات التالية خاطئة بشأن مكافحة النقابات العمالية انتهاك حقوق الموظف عن بعد ؟

- أ-وجوب متابعة حالته النفسية
ب-الحرص على متابعة الإنجاز
ج-الاهتمام بوقت الرسائل الالكترونية
د- التقيد بوقت العمل

٣: العلاقة بين ثقة المدير في الموظف والانتاجية هي علاقة ؟

- أ- عكسية
ب- تكاملية
ج- طردية
د- أفقية

٤: أنسب عنوان للنص ؟

- أ- مكتسبات الموظف
ب- موظفون في منازلهم
ج- الموظف والرقابة
د- حقوق العمال

القطعة (٤)

عند ملاحظة الطفل يستعمل يده اليسرى عند الاكل يجب توجيهه بهدوء وتدريبه تدريجيا على استعمال اليد اليمنى وليكن التعامل معه بالترغيب وليس بالتوبيخ والترهيب فنحن في صدام مع سيالات عصبية قادمة من المخ تهيمن على الجزء الايسر في الجسم عند هؤلاء الاطفال ووسيلة التدريب تحتاج الى وقت وتوجيه دونما توبيخ كما وتدريب الطفل على حمل الاشياء الخفيفة باستعمال اليد اليمنى.

١ : يجب التعامل مع الطفل الذي يأكل باليد اليسرى

أ - التوبيخ

ب- الترهيب

ج- التدريب

د- التعليم

٢ : العنوان الانسب للقطعة ؟

أ - مشاكل الاكل عند الطفل

ب - صعوبة الاكل عن الطفل

ج - اكل الطفل باليد اليسرى

د- حلول الاكل باليدين عند الاطفال

القطعة (٥)

جزء كبير من تردي الأوضاع الاجتماعية لبعض الأسر نشأ نتيجةً لسوء إدارة مواردها المالية وشؤونها الاقتصادية.

العديد من الأسر أقحمت نفسها في قروض استهلاكية وتردت أوضاعها الاقتصادية إلى مستويات غير قابلة للاستمرار. وأصبح لزاماً عليها تغيير أنماطها الاستهلاكية وبذل جهد أكبر لتصحيح أوضاعها الاقتصادية والاهتمام أكثر بالتخطيط المالي لمواردها الاقتصادية.

أدت الأخطاء الاقتصادية -والإصرار على تكرارها- عند بعض الأسر إلى خلق أزمات مالية ساهمت في تدهور الحياة الاجتماعية.

سلوك معظم الأسر يحتاج إعادة صياغة لاسيما ما يتعلق بالاستهلاك وتنظيم الوقت. والعديد من الأسر بحاجة لعلماء الاجتماع أكثر من حاجتها لعلماء الاقتصاد لسد الفجوة بين القيم التي تؤمن بها والقيم التي تطبقها في حياتها.

أحد أهم مؤشرات سلبيات الفوضى الاستهلاكية يتمثل في ارتفاع حجم إنفاق الأسرة في بداية الشهر مقارنة بنهايته

البرمجة الاقتصادية لميزانية الأسرة وأسس التخطيط المالي:

- أسس التخطيط المالي الجيد ينطلق من إدراك حاجة الأسرة للتغيير لاسيما الأسر التي تردت أوضاعها الاقتصادية إلى مستويات غير قابلة للاستمرار.

- البرمجة الاقتصادية لميزانية الأسرة إحدى أهم الوسائل المساعدة على تصحيح الخلل الذي تعاني منه معظم الأسر من الطبقة المتوسطة

١: السبب في ان الاسر الفقيره تعاني اكثر من غيرها ؟

ب- غلاء المعيشه

أ- كثرت التضخم المالي

د- القروض البنكيه الميسره

ج- ارتفاع المعيشة بسبب الادخار

٢: اختر الاجابة الصحيحة :

- أ- العلاقة بين الازواض المادية و الاجتماعية علاقة تعاضد
ب- العلاقة بين الازواض المادية و الاجتماعية علاقة تضاد
ج-العلاقة بين الازواض المادية و الاجتماعية علاقة تضامن
د-العلاقة بين الازواض المادية و الاجتماعية علاقة طردية

٣: الترشيذ في الانفاق يكون ب :

- أ- القروض الاستهلاكية
ب-تحديد الدخل
ج-الانفاق على الضروريات
د-الابتعاد عن الكماليات

٤: مما يساعد الاسره على تنظيم ميزانيتها؟

- أ- القروض الاستهلاكية
ب- الادخار
ج-البرمجة الاقتصادية والتخطيط المالي
د-الاستثمار

القطعة (٦)

النفط أو النفط الخام؛ عبارة عن سائل باللون الأسود، أو البني الغامق، أو الأصفر أحياناً، حيث يعتمد اللون على المكونات الداخلية للسائل، يتواجد بشكل طبيعي في طبقات الأرض، أو قد يكون مختلطاً بالرمال، وهو مزيج معقد من الهيدروكربونات، والغاز الطبيعي، وشمع البارافين، ويحتوي على عناصر غير معدنية، مثل: الكبريت، والأكسجين، والنيتروجين.

يتواجد النفط في أعماق الأرض، ونتيجة للضغط العالي يبدأ بالتدفق بشكل بطيء نحو السطح، حيث يكون الضغط أقل، ويستمر هذا التدفق حتى يصادف النفط طبقة غير منفذة من الصخور، وهناك يبدأ بالتجمع داخل الخزانات الموجودة على بعد عدة أمتار من سطح الأرض، ويتم تحديد أماكن الخزانات من قبل علماء الكيمياء والجيولوجيا عن طريق دراسة الهياكل الصخرية تحت الأرض، واستخدام أجهزة الاستشعار لتحديد التخطيط الجيولوجي للأرض، وبعد ذلك يتم حفر الآبار باستخدام حفارات نفطية، وبشكل عمودي نحو مصدر النفط.

١: كيف يستخرج النفط ؟

- أ- عن طريق الضغط
ب- عن طريق الحفر
ج- عن طريق الحرارة
د- عن طريق الدفع

٢: النفط يتواجد تحت الارض على شكل ؟

- أ- حقول
ب - سوائل
ج- مواد صلبة
د- غازات

٣: يتم إكتشاف النفط عن طريق ؟

- أ- حفر سطح الارض
ب- فحص سطح الارض
ج- فحص باطن الارض
د- الحفر الى عمق الارض

القطعة (٧)

عد الإدارة من أهم النشاطات الإنسانية التي تمارس داخل المجتمعات، حيث لها تأثير كبير على نواحي الحياة المختلفة نظراً لارتباطها المباشر بالشؤون الاقتصادية، والقضايا الاجتماعية، والسياسية، فالإدارة هي الجهة المسؤولة التي تعمل على جمع الموارد الاقتصادية وتوظيفها من أجل إشباع حاجات الفرد والجماعات في هذه المجتمعات، حيث تتطور المجتمعات وتتقدم بالاعتماد على الإدارة، ولهذا تعتمد الدول عليها من أجل توفير الرخاء لمواطنيها، وتعتبر الإدارة الناجحة أساس نجاح منظومة المجتمع وتفوقها. تعريف الإدارة تعرف الإدارة بأنها عملية تحقيق الأهداف الموضوعية من خلال استغلال الموارد والعناصر المتاحة، حسب منهج مُحدّد، وضمن بيئة محددة، كما تعرف بأنها عملية التخطيط والتنظيم، والرقابة، والتنسيق، والتوجيه المطبقة على الموارد المالية والبشرية، من أجل تحقيق أفضل النتائج، بأقل التكاليف، وأفضل الطرق وأقصرها، والإدارة هي فرع من فروع العلوم الاجتماعية. أنواع الإدارة الإدارة العامة: تتميز بأنها تعمل خلال الظروف الاحتكارية بعدد كبير من الموظفين، حيث تقدم خدمات عامة ضخمة لا تكون غايتها الربح، وإنما تقدم الخدمات الواجبة والضرورية لأفراد المجتمع، وتلتزم بمساواة المواطنين أمام هذه الخدمات دون تمييز. إدارة الأعمال: تتميز عن الإدارة العامة بروح التنافس الحادة، حيث إنّ الهدف الرئيسي لإدارة الأعمال تحقيق أقصى ربح مادي ممكن من خلال إدارة المشاريع الخاصة، إلا أنها مشاريع أصغر من مشاريع الإدارة العامة، كما أنّ عدد موظفيها أقل من موظفي الإدارة العامة. مستويات الإدارة الإدارة العليا: تتمثل في المدير العام أو رئيس مجلس الإدارة. الإدارة الوسطى: تتمثل بمدراء الأقسام. الإدارة التنفيذية: تعرف أيضاً بالإدارة التشغيلية والتي تتمثل بالمشرفين بشكل مباشر على تنفيذ الأعمال، وتطبيق السياسات على أرض الواقع.

١: تعرف الإدارة بأنها :

ب- متخصصة

أ- متنوعة

د-شاملة

ج- مهنيه

٢: الإدارة فن عندما تتعامل مع :

أ- الآلات

ب- الأفراد

ج- الانظمة والقوانين

د-الأرقام و الاحصائيات

٣: الفرق بين الادارة العليا والادارة الوسطى :

أ-الادارة الوسطى ترفض المقترحات لانها لا تتماثل مع رأيها

ب- الادارة الوسطى لا تتوافق مع السلطة التشريعية العليا

ج- الادارة العليا تختص بعملية ترجمة الاهداف والسياسات العامة المحددة

د- تمثل الادارة العليا القاعدة الاساسية للمتخصصين والخبراء في كل المشاريع

٤: توجه الادارة التقليدية الى :

أ- التعامل المباشر

ب- التعامل الالكتروني

ج-التعامل عن طريق وسيط

د-التعامل عن بعد

٥: القرارات التي تتخذ تكون عن طريق :

أ- الادارة العليا

ب-الادارة الوسطى

ج- الادارة العليا و الوسطى

د- الادارة العليا و المباشرة

٦: اهداف الرقابة :

أ- تطوير الاداء الوظيفي

ب- مراقبة سلوكيات الموظفين

ج- متابعة الاداء الوظيفي

د- معاقبة الموظفين الغير منضبطين

الإستنباطي

١: خالد عمره ١٥ سنة ومن شروط الحصول على بطاقة الاحوال أن يكون العمر ١٥ سنة

أ- اخو خالد الأكبر لديه بطاقة احوال

ب- اخو خالد الأصغر ليس لديه بطاقة احوال

ج- اخوة خالد لديهم بطاقة احوال

د- اخوة خالد لايملكون بطاقة احوال

٢: محمد يملك مليون واخوه فراس يملك ربع المليون ،وظلال الاكبر منه يملك اكثر من فراس فأى العبارات التالية صحيحة :

أ- يملك محمد اكثر من طلال وفراس

ب- مجموع مايملكون مليون واكثر من نصف المليون

ج- مجموع مايملكون أقل من مليون ونصف

د- مجموع مايملكون يساوي مليون ونصف

٣: اشترطت مدرسه لطلاب الابتدائي سن ست سنوات واستثنت من عمره خمس سنوات و٩ شهور وطلاب الروضة اعمارهم خمس سنوات وست شهور

أ- طلاب الروضة يدخلون الابتدائي بدون شرط

ب- استثنى من عمره خمس سنوات و١٠ شهور دخول الابتدائي

ج- ست سنين و١٠ شهور يقبل بدون شروط

د- خمس سنوات وست شهور يقبل بدون شروط

٤: اليابان تقع شرق الفلبين والفلبين تقع شرق الصين و الصين تقع غرب الفلبين

أ- اليابان غرب الكرة الارضية

ب- اليابان شرق الصين

ج- اليابان تقع في اقصى الغرب

د- اليابان تقع غرب الصين

٥: من شروط التقديم على الماجستير تقدير جيد جدا وقياس لا يقل عن ٧٠٪

احمد درجته في القياس ٧٠ وتقديره جيد جدا

أ- جميع من تم قبولهم مثل احمد و افضل

ب- أحمد اقل درجة من بين المتقدمين على الماجستير

ج- جميع الحاصلين على درجة قياس ٧٠ مقبولين في الماجستير

د- جميع الحاصلين على تقدير ممتاز مقبولين في الماجستير

٦: كرمت مدرسة جميع المتفوقين خلال السنة الدراسية و جميع المدعويين متفوقين ، وكان فهد ضمن المدعويين للتكريم وخالد يدرس مع فهد

أ- فهد من المتفوقين

ب- خالد من المتفوقين

ج- فهد وخالد من المتفوقين

د-خالد ضمن المدعويين

٧: ذهب مجموعه الى السودان للصيد ، علما ان الغزلان بالمحمية . أي العبارات صحيحة

ب- اصطادو غزالا

د- اصطادوا شيئا

أ- لم يصطادو غزالا

ج- لم يصطادو شيئا

٨: جميع الحضور مدعوين للحفلة ، خالد حضر الحفله ، حمد لم يحضر

أ- خالد مدعو للحفله

ب- حمد لا يريد الحضور

ج- حمد لم يدعى للحفله

د- خالد لم يدعى للحفله

٩: مهند و فيصل و عمار و فهد و نواف يسكنون في ٣ مناطق بالمملكة العربية السعودية. و عمار لايسكن في نفس المنطقة التي يسكن فيها فيصل ، و فيصل و نواف يسكنون في منطقة واحدة، و فهد لايسكن في نفس المنطقة التي يسكن فيها نواف، و مهند لايسكن مع فيصل في منطقة واحدة، فأى العبارات صحيحة؟

أ- فهد يسكن مع فيصل في منطقة واحدة

ب- فهد لايسكن مع عمار في منطقة واحدة

ج- فهد و مهند يسكنون مع عمار في منطقة واحدة

د- عمار لايسكن مع نواف في منطقة واحدة

١٠: قامت جامعه بتكريم الاوائل باعطائهم هدايا والطلاب المتفوقين باعطائهم شهادات شكر ، جميع المشاركين تقديرهم ممتاز

أ-المتفوقين حصلوا على شهاده شكر

ب-كل المتفوقين اوائل

ج-الاولائل حصلوا على شهاده شكر

د- جميع المشاركين حصلوا على هدية و شهادة شكر

١١: شركة لا يتم تعيين المدير فيها الا بعد ١٥ سنة من الخبرة في الشركة، عمر توظف قبل مديره بسنتين . أي العبارات التالية صحيحة؟

أ-عمر يستحق أن يكون مدير

ب- عمر يستحق راتب ١٥ ألف ريال

ج-عمر يستحق راتب تقاعد

د- عمر خبرته اكثر من ١٥ سنة

١٢ : توظف خالد وعمره ٢٢ سنة ، التقاعد النظامي في الشركة عند بلوغ السن ٦٠ سنة ، تقاعد خالد وعمره ٦٠ سنة ، اذا اكمل ٤٠ سنة عمل يستحق راتب تقاعد كامل .

أ- اكمل خالد ٤٠ سنة خدمة في الشركة

ب- خالد يستحق راتب كامل

ج- تقاعد خالد وعمره ٦٠ سنة

د- تقاعد خالد بناءً على رغبته

١٣ : مكتبه فيها عمودين أ و ب ، العمود أ مسجل جميع عناوين الكتب في برنامج البحث ، والمكتب ب مسجلة جزء من عناوية الكتب ، خالد اشترى كتاب عنوانه مسجل في برنامج البحث ، ومشاري اشترى كتاب عنوانه غير مسجل في برنامج البحث

أ- مشاري اشترى من العمود ب

ب- خالد اشترى من العمود ب

ج- خالد ومشاري اشتروا من العمود أ

د- خالد ومشاري اشتروا من العمود ب

١٤ : محمد اصغر من ثامر و ثامر اكبر من احمد و ثامر نصف عمر بندر

أ- بندر أكبر من احمد

ب- احمد اكبر من بندر

ج- ثامر اصغر من بندر

د- محمد أكبر من احمد

١٥ : مبنى مدرسة مكون من ٢٥ قاعة واسعة و ٢٠ فصول طلاب و ٣ قاعة للإداريين وقاعة مختبر وقاعة للحاسب الآلي .

أ- أعداد المعلمين كثير

ب- كل القاعات واسعة

ج- فصول الطلاب كثيرة

د- مساحة المختبر واسعة

١٦ : مبنى مدرسي يحتوي على ٢٦ قاعة و ٢٠ فصل للطلاب و ثلاث قاعات للإداريين و قاعتين للمعلمين و قاعة واحدة للحاسب الآلي

أ- الحاسب الآلي لا توجد له قاعة

ب- مساحه الفصول كبيرة تتسع للطلاب

ج- توجد قاعة فارغة

د- فصول الطلاب كثيرة

١٧ : ابراهيم وعادل و عماد و خالد ، عماد توام خالد ، ابراهيم اكبر الاشقاء ، خالد أصغرهم ، عادل أصغر من محمد و أكبر من خالد ، وفهد اصغر خالد ، من الأصغر؟

أ- خالد

ب- عادل

ج- فهد

د- عماد

١٨ : ابناء ابو صالح يحفظون القران اكبرهم محمد وهو امام مسجد واصغرهم فهد وهو طالب في المرحلة الثانوية

أ- محمد يحفظ القران

ب- فهد لا يحفظ القران

ج- اصغرهم يدرس في المرحلة المتوسطة

د- ابناء ابو صالح كثيرون

١٩ : سمكة لاتعيش الا في البحر الاحمر، وقام خالد برحلة الى البحر الاحمر لإصطياد السمك

أ- رحلته كانت في البحر الاحمر

ب- يصيد هذا النوع النادر من الاسماك

ج- خالد يسكن في جده

د- رحلة غوص لاستكشاف البحر الاحمر

٢٠ : مسابقة وظيفية تقدم عليها كل من احمد ومحمد وفراس وعلي و بدر ، احمد قبل فراس ، وعلي بعد محمد ، وفراس بعد علي، وبدر قبل احمد .من فاز بالوظيفة ؟

ب- بدر

أ- فراس

د- محمد

ج- علي

٢١ : كل الحيوانات المفترسة اكلة اللحوم ، بعض الحيوانات الاليفة أكلة اللحوم

أ- الحيوانات الاليفة اكلة لحوم

ب- بعض الحيوانات المفترسة اكلة لحوم

ج- الحيوانات الاليفة لاتاكل اللحوم

د- الحيوانات المفترسة تاكل اللحوم

٢٢ : اربعة اخوه طبيب ومعلم ومهندس وطيار ، خالد وفيصل توأمان، اذا كان الطيار اطول من الجميع والمهندس اقصرهم ، وظيفه فيصل مهندس وكان مهند اطول من عبدالله، وظيفه عبدالله طبيب ، فما وظيفه خالد؟

ب - طبيب

أ - مهند

د - معلم

ج - طيار

القدرة الكمية

سلاسل الأرقام

(١) ١٠ ، ١٥ ، ٢٥ ، ٣٠ ،

أ- ٣٥
ب- ٤٠

ج- ٤٥
د- ٥٠

(٢) ١ ، ١ ، ٢ ، ٣ ، ٥ ،

أ- ٦
ب- ٨

ج- ١٠
د- ١٢

(٣) ١٩ ، ١٧ ، ٢٢ ، ٢٠ ،

أ- ٢٢
ب- ٢٣

ج- ٢٤
د- ٢٥

(٤) ١ ، ١ ، ٢ ، ٦ ، ، ١٢٠

أ- ٢٤
ب- ٢٠

ج- ١٦
د- ١٢

(٥) ٢٤٠٠ ، ١٢٠٠ ، ٤٠٠ ، ١٠٠ ،

أ- ١٠
ب- ٢٠

ج- ٤٠
د- ٦٠

(٦) ٧٧ ، ٨٨ ، ٩٩ ،

أ- ١٠٧
ب- ١٠٨

ج- ١٠٩
د- ١١٠

(٧) ٩ ، ١٦ ، ٢٥ ، ٣٦ ،

أ- ٤٦

ب- ٤٧

ج- ٤٨

د- ٤٩

(٨) ١ ، ٤ ، ٩ ، ١٦ ،

أ- ٢٣

ب- ٢٤

ج- ٢٥

د- ٢٦

(٩) ١ ، ٣ ، ٤ ، ٦ ، ٩ ، ١٣ ،

أ- ١٠

ب- ١١

ج- ١٢

د- ١٣

(١٠) ١ ، ، ٧ ، ٢١ ، ٢٤ ، ٧٢

أ- ٣

ب- ٤

ج- ٥

د- ٦

(١١) ١ ، ٦ ، ١٦ ، ٣٦ ،

أ- ٥٦

ب- ٦٦

ج- ٧٦

د- ٨٦

(١٢) ٨ ، ٤ ، ١٦ ، ٨ ، ٦٤ ،

أ- ٣٢

ب- ٣٤

ج- ٤٢

د- ٤٣

(١٣) ، ٤٦ ، ٥٣ ، ٦١ ، ٧٠ ، ٨٠

أ- ٤٠

ب- ٤١

ج-٤٣ ٤٤-د

(١٤) ٤ ، ١١ ، ٣٠ ، ٦٧ ، ١٢٨ ، ،

أ- ٢١٩ ٢٢٨-ب

ج- ٢٣١ ٢٣٧-د

(١٥) ١ ، ٢ ، ٦ ، ٤٤ ، ،

أ- ٤٨ ١٢٠-ب

ج- ١٤٠ ١٦٠-د

(١٦) ١ ، ٤ ، ١٣ ، ٤٠ ، ،

أ- ١٢١ ١٣٢-ب

ج- ١٤١ ١٤٢-د

المسائل الحسابية :

١: شخص يبيع تفاحتين بسعر ٣ برتقالات إذا اراد ان يستبدل ١٠ تفاحات ببرتقال كم يصبح عدد البرتقال ؟

أ- ١٠ ١٢-ب

ج- ١٥ ٢٠-د

٢: معلمة لديها ٥١ لعبة، قسمتها بالتساوي بين طلابها ؛ فكم عدد الطلاب ؟

أ- ٥ ٧-ب

ج- ١٠ ١٧-د

٣: يزيد طول فواز عن طول اخته فاطمه ٢٠ سم، اذا كان مجموع طولهما يساوي ٣١٠ سم . فكم طول فواز بالسنتيمتر ؟

أ- ١٤٥ ب- ١٥٥

د- ١٩٠

ج- ١٦٥

٤: شمعتين طول كل وحده ٣٠ سم مصنوعتين من مادتين مختلفتين الاولى تحترق بسرعة ثلاث مرات عن الثانية ، اذا الاولى احترقت النصف كم احترق من الثانية ؟

ب- ١٠

أ- ٥

د- ٢٠

ج- ١٥

٥: مصنع ينتج كل يوم ونصف سيارة، فكم ينتج سيارة خلال ٣٠ يوماً ؟

ب- ١٥ سيارة

أ- ١٠ سيارات

د- ٢٥ سيارة

ج- ٢٠ سيارة

٦: غرفه مساحتها ٨٤ م^٢ ، إذا سطل دهان واحد يكفي ٢٤ م^٢؛ فكم نحتاج سطل دهان ؟

ب- ٥ سطل

أ- ٣ سطل

د- ٣,٥ سطل

ج- ٤ سطل

٧: سلعه قيمتها ٢٢٠ خفضت بنسبة ١٥٪ فما قيمتها الحالية ؟

ب- ١٧٧

أ- ٢٠٥

د- ١٦٧

ج- ١٨٧

٨: خمسين يوم كم فيها اسبوع ؟

ب- سبعة اسابيع ويوم واحد

أ- سبعة اسابيع فقط

د- سبعة اسابيع و ثلاثة ايام

ج- سبعة اسابيع ويومان

٩: محمد صاحب مكتب عقارات وبيع ارض بقيمة ٢٥٠٠٠٠، علما بأن نصيبه من كل عملية بيع يبلغ ٢,٥ ٪ من قيمة الصفقة ، فكم نصيب محمد من عملية البيع ؟

أ- ٥٠٠٠

ب- ٦٠٠٠

د- ٦٢٥٠

ج- ٥٢٥٠

١٠: سعد رجل عمارة وتوقف عند الطابق رقم ٣٠ وكان يساوي الطابق ٢٠٪

كم بقي عليه من طابق ؟

ب- ١٣٠ طابقا

أ- ١٢٠ طابقا

د- ١٥٠ طابقا

ج- ١٤٠ طابقا

١١: راتب شخص ٦٠٠٠ ريال و له نسبة ٣٪ فاذا كانت ارباح الشركة ١٥٠٠٠٠ كم يصبح راتبه ؟

ب- ٩٠٠٠٠

أ- ١٠٥٠٠

د- ١٠٠٠٠

ج- ٩٥٠٠

١٢: اذا كانت شركة توزع ارباح سنويه بنسبة ١٢,٥ ٪ من رأس المال فبعد كم سنه تتساوى الارباح مع رأس المال ؟

ب- بعد ٧ سنوات

أ- بعد ٦ سنوات

د- بعد ٩ سنوات

ج- بعد ٨ سنوات

١٣: محمد يعمل في شركة عقارات ، راتبه ٦٠٠٠ ريال، ويأخذ عمولة ٠,٠٠٨ على كل صفقة، باع لشخص أرض بقيمة ٢١٠٠٠٠، كم مجموع دخله في هذا الشهر؟

ب- ٧٦٨٠ ريال

أ- ٧٠٠٠ ريال

د- ٧٨٨٠ ريال

ج- ٧٨٠٠ ريال

١٤ : مجموع رواتب خالد وسلمان و محمد و محمد ،٢١٠٠٠٠ راتب سلمان ضعف راتب محمد و راتب محمد ربع راتب خالد ، فكم راتب خالد ؟

ب- ٦٠٠٠٠

أ- ١٢٠٠٠٠

د- ٥٠٠٠٠

ج- ٣٠٠٠٠

١٥ : مدفع يتحرك ٥٠٠ متر عند تحريكه بزاوية ٤٥ درجة ، اذا علمت ان الدرجه تساوي ٢٠ متر ، كم يقطع مترا عند تحريكه بزاوية ٥٠ درجة ؟

ب- ٥٥٠

أ- ٥٠٠

د- ٦٥٠

ج- ٦٠٠

١٦ : كرسي مكون من ٨ قطع كل قطعه ب٥ ريال اذا كان يبيع بمكسب ٢٠ ريال بكم يبيع الكرسي ؟

ب- ٦٠

أ- ٤٠

د- ١٠٠

ج- ٨٠

١٧ : اهدى أحمد اخوه خمس مالدیه وتبقى معه ١٠٠٠ ، فكم كان مع احمد ؟

ب- ١٢٥٠

أ- ١١٥٠

د- ١٤٥٠

ج- ١٣٥٠

١٨ : احمد راتبه ١١٠٠٠ ، ويخصم التقاعد منه ٩% ، كم يخصم من راتب احمد للتقاعد ؟

ب- ١٠٠٠

أ- ٩٩٠

د- ١١٥٠

ج- ١١٥٠

١٩: الصف الاول يوجد فيه ١٢ مقعد والصف الثاني يزيد عن الاول عن كل ٤ مقاعد مقعد فكم عدد مقاعد الصف الثاني؟

ب- ١٣

أ- ١٢

د- ١٥

ج- ١٤

٢٠: خديجة كان عمرها ٣٢ في عام ١٤٣٧ كم كان عمرها عام ١٤١٥؟

ب- ١٥

أ- ١٠

د- ٢٥

ج- ٢٠

٢١: محمد يمتلك وحدتين سكنيه ، الأولى مأجره بمبلغ ٣٠ الف في السنه والثانيه بمبلغ ٢٥ الف في السنه ، كم المبلغ الاجمالي بعد سنتين ونصف اذا افترضنا انه ياخذ الاجار كل ٦ اشهر؟

ب- ١٣٧٠٠٠

أ- ١٣٦٥٠٠

د- ١٣٨٠٠٠

ج- ١٣٧٥٠٠

٢٢: فاز بسباق الخيل المركز الاول وكانت جائزته ٢٠٠٠٠ ، والمركز الثاني كانت جائزته ١٠٠٠٠ والمركز الثالث ٥٠٠٠ ، فكم جائزة المركز الخامس؟

ب- ١٤٥٠

أ- ١٢٥٠

د- ١٨٥٠

ج- ١٦٥٠

٢٣: كان الماء ممتلئ خمسه واضفنا لترين فأصبح ثلثه فكم حجم الماء اذا امتلئ؟

ب- ٩ لتر

أ- ٦ لتر

د- ١٥ لتر

ج- ١٢ لتر

٢٤: شخص اشترى ٣ سيارات، وكل سيارة قيمتها ربع المبلغ الذي معه، وكان معه ٢٠٠٠٠٠٠؛ فكم بقي معه؟

ب- ٤٥٠٠٠

أ- ٤٠٠٠٠

د- ٥٥٠٠٠

ج- ٥٠٠٠٠

٢٥: وصف طبيب اقراص لاحمد حبتين صباحا وحبّة مساء والعلبة فيها ٣٠ حبة فقد منها ٣ حبات كم يوم تكفي العلبة؟

ب- ٨ أيام

أ- ٧ أيام

د- ١٠ أيام

ج- ٩ أيام

٢٦: ثلاثة اشخاص اشتركوا في مشروع الاول دفع ٢٠٠٠ والثاني ٣٠٠٠ والثالث ٥٠٠٠ وربحوا ٥٠٠٠٠ فكم حصة الاول والثالث معاً؟

ب- ٢٥٠٠٠

أ- ٢٠٠٠٠

د- ٣٥٠٠٠

ج- ٣٠٠٠٠

٢٧: اشترت شركة ٢٦ طابعة، وكان هناك عرض على الطابعة الواحدة ب ١٠٠٠ ريال، وخمس طابعات ب ٤٧٥٠ ريال، و ١٠ طابعات ب ٩٠٠٠، فكم كان كامل المبلغ المدفوع؟

ب- ٢٢٧٥٠

أ- ٢٢٠٠٠

د- ٢٣٧٥٠

ج- ٢٣٠٠٠

٢٨: أحمد لديه عربة سعة حمولتها ٨ صناديق برتقال، ولديه ٢٦ صندوق، فكم مره يحتاج الى نقل الصناديق؟

ب- ٣

أ- ٢

د- ٥

ج- ٤

٢٩: عمر احمد ٧٠ يزيد عن مثلي عمر خالد بـ ٣٠ ، فكم عمر خالد؟

ب- ٣٠

أ- ٢٠

د- ٥٠

ج- ٤٠

٣٠: عمر فهد الان يعادل ضعف عمر فيصل ، وقبل ٦ سنوات كان عمر فهد يعادل ٤ اضعاف عمر فيصل ، فكم عمر فهد الآن ؟

ب- ١٢

أ- ١٠

د- ٢٤

ج- ١٨

٣١: محل أجهزة كهربائية عمل خصم ٥٠% اذا كان سعر جهاز ١٨٠٠ ريال ، المحل يريد أن يعمل خصم إضافي ٢٠% فكم يكون سعر الجهاز ؟

ب - ٣٤٠

أ - ٢٥٠

د - ٥٤٠

ج - ٤٥٠

٣٢: رجل ذهب من منزله الى عمله وقطع ٧٠% ، بقي له ٩ كيلو ، كم عدد الكيوات التي قطعها ؟

ب - ١٩ كيلو

أ - ١٧ كيلو

د - ٢٣ كيلو

ج - ٢١ كيلو

٣٣: شركة رأس ماله ٢٠٠٠٠٠٠٠ وربحت هذا العام ٥٠٠٠٠٠٠ الف ، كم نسبة ربحها هذا العام ؟

ب - ٢٥%

أ - ٢٠%

د - ١٥%

ج - ٣٠%

٣٤: زجاجة عصير وزنها ١٥٠٠ قرام بعد افراغها من نصف العصير أصبحت بوزن ٩٠٠ فكم وزن الزجاجاة ؟

ب - ٤٠٠

أ - ٣٠٠

د - ٦٠٠

ج - ٥٠٠

٣٥: راتب أحمد يزيد عن راتب خالد ب ١٦٠٠ ريال ، وراتب أحمد نصف راتب محمد ، ومحمد راتبه ١٣٢٠٠ ريال ، كم راتب خالد ؟

ب - ٥٠٠٠

أ - ٤٠٠٠

د - ٧٠٠٠

ج - ٦٠٠٠

٣٦: يملك تاجر ١٢ بقرة تنتج البقرة الواحدة ١٢ لتر ويخسر عليه التاجر ١٠٠ ريال للأعلاف إذا كان يبيع اللتر الواحد ب ٤ ريال كم هي أرباح التاجر ؟

ب - ٥٠٠ ريال

أ - ٤٧٦ ريال

د - ٦٧٨ ريال

ج - ٥٤٧ ريال

تفسير البيانات

مدرسة	مدرسة	مدرسة	مدرسة	المادة	
٤	٣	٢	١		
٨٠	٨١	٧٧	٨٣	قبلي	حاسب
٩١	٩٢	٨٨	٩٤	بعدي	
٧٧	٧٦	٧٤	٧٥	قبلي	علوم
٩٢	٩١	٨٩	٩٠	بعدي	
٨٦	٧٠	٧٣	٨٦	قبلي	احياء
٩٤	٨٧	٩٠	٩٥	بعدي	
٨٧	٧٥	٧٠	٨١	قبلي	رياضيات
٩٥	٨٠	٨٨	٩٣	بعدي	

(١) في اي مادة الفرق بين القبلي والبعدي هو الاكبر ؟

- أ- حاسب
ب- علوم
ج- أحياء
د- رياضيات

(٢) ماهي المادة التي تحسنت درجات الطلاب فيها واستفادوا من التدريب ؟

- أ- حاسب
ب- علوم
ج- أحياء
د- رياضيات

(٣) في اي مادة الفرق بين القبلي والبعدي هو الأقل ؟

- أ- حاسب
ب- علوم
ج- أحياء
د- رياضيات

(٤) ماهي المدرسة التي استفادت استفادة كبيرة من التدريب؟

- أ- مدرسة ١
ب- مدرسة ٢
ج- مدرسة ٣
د- مدرسة ٤

(٥) ماهي المدرسة التي حصلت على أعلى مجموع للدرجات ؟

- أ- مدرسة ١
ب- مدرسة ٢
ج- مدرسة ٣
د- مدرسة ٤

الاربعاء	الثلاثاء	الاثنين	الاحد	المنطقة	
١٣٨	١٢٢	١٤٥	١٦٧	القادمين	الرياض
١٤٢	١٥١	١٧٤	١٧٧	المغادرين	
١٠٥	١٢٢	١٧٨	١٥٧	القادمين	الدمام
٢١٢	٢٢٣	٢٠٤	١١٥	المغادرين	
١٧٤	١٨٨	١٩٨	١٩١	القادمين	جدة
١٢٢	١٨٤	١٤٦	١٥٤	المغادرين	
١٠٥	١٥٢	١٤٦	١٩٤	القادمين	أبها
٧٩	٩٤	٨٨	١٠٥	المغادرين	
٨٨	١١٠	١٠١	٩٥	القادمين	عرعر
٨٧	٨٥	٩١	٩٤	المغادرين	

(١) كم عدد المغادرين في جميع المدن يوم الاثنين؟

أ- ٦٩٠ ب- ٦٩٥

ج- ٧٠٠ د- ٧٠٣

(٢) كم يبلغ عدد القادمين لمدينة الدمام خلال جميع الايام؟

أ- ٥٥٠ ب- ٥٥٢

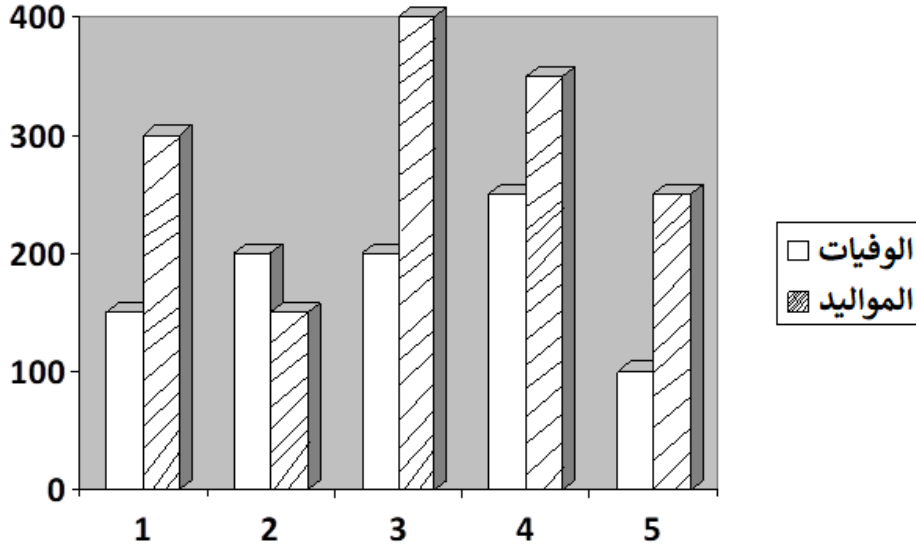
ج- ٥٦٢ د- ٥٧٠

(٣) كم يبلغ عدد القادمين والمغادرين لمدينتي الرياض و أبها يومي الاحد

والثلاثاء؟

أ- ١١٦٢ ب- ١١٦٧

ج- ١١٦٩ د- ١١٧٠



١: كم عدد الوفيات خلال الخمس سنوات؟

أ- ٧٠٠ ب- ٨٠٠

ج- ٩٠٠ د- ١٠٠٠

٢: كم عدد المواليد خلال الثلاث سنوات الاولى؟

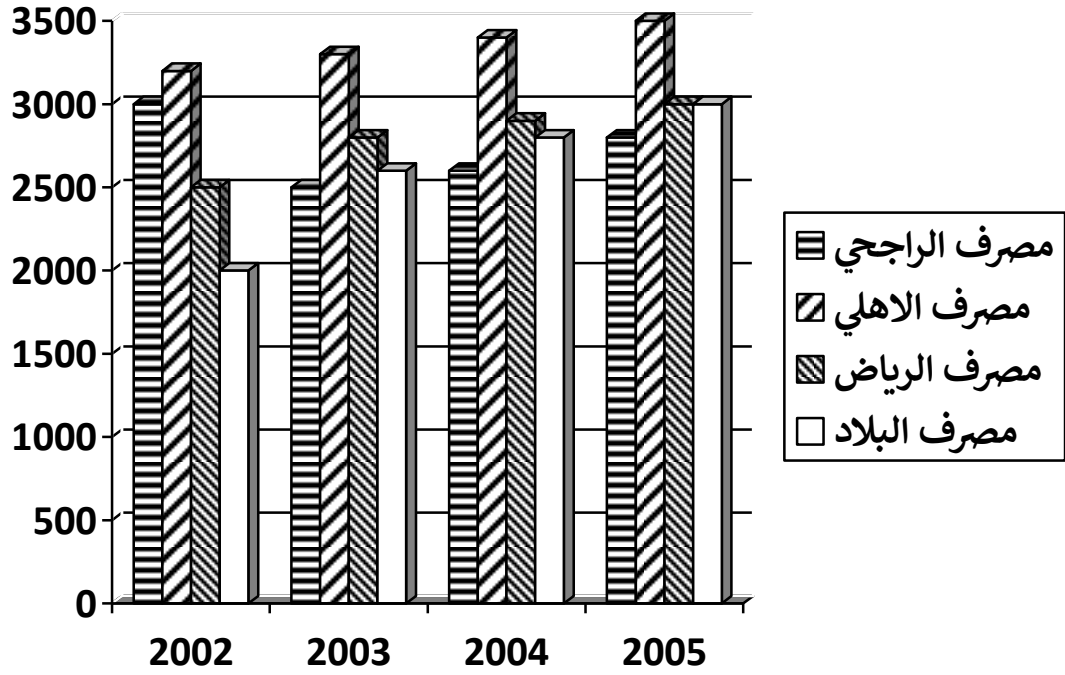
أ- ٧٠٠ ب- ٧٥٠

ج- ٨٠٠ د- ٨٥٠

٣: كم عدد الوفيات و المواليد خلال السنة الثالثة؟

أ- ٤٥٠ ب- ٥٠٠

ج- ٦٠٠ د- ٧٠٠



١: ماهو المصرف الاكثر تطورا خلال الخمس سنوات ؟

أ - مصرف الراجحي

ب - مصرف الاهلي

ج - مصرف الرياض

د - مصرف البلاد

٢: كم مجموع ارباح البنوك خلال سنة ٢٠٠٢ ؟

أ - ١٠٦٠٠

ب - ١٠٦٥٠

ج - ١٠٧٠٠

د - ١٠٧٥٠

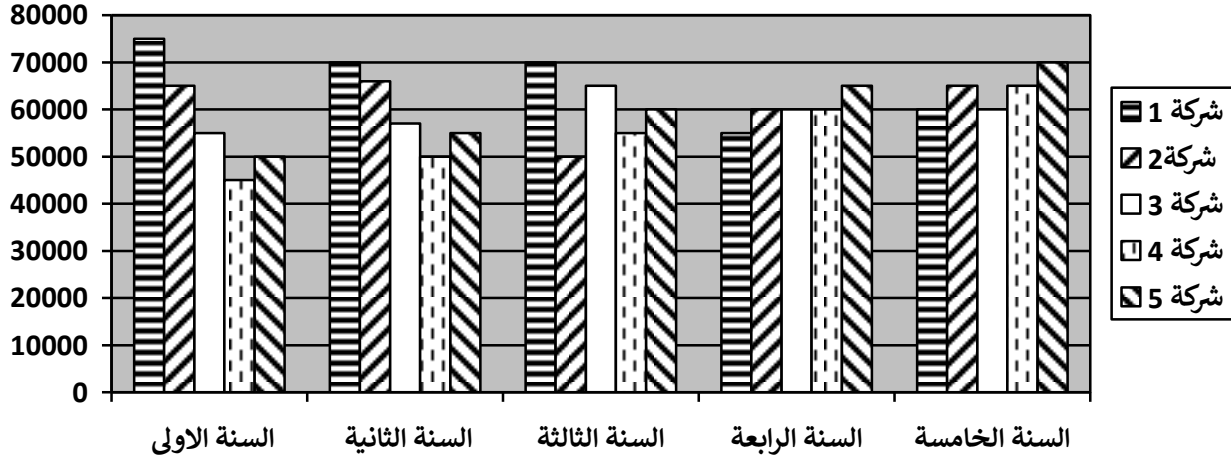
٣: كم مجموع ارباح بنكي الاهلي و البلاد خلال سنة ٢٠٠٣ و ٢٠٠٥ ؟

أ - ٢١٥٠٠

ب - ٢٢٥٠٠

ج - ٢٣٨٠٠

د - ٢٤٠٠٠



١: كم مجموع ارباح الشركات خلال السنة الثالثة؟

أ - ٢٢٠٠٠٠

ب - ٢٣٠٠٠٠

ج - ٢٤٠٠٠٠

د - ٢٥٠٠٠٠

٢: أي الشركات حققت أعلى ربح خلال الخمس سنوات؟

أ - شركة ١

ب - شركة ٣

ج - شركة ٤

د - شركة ٥

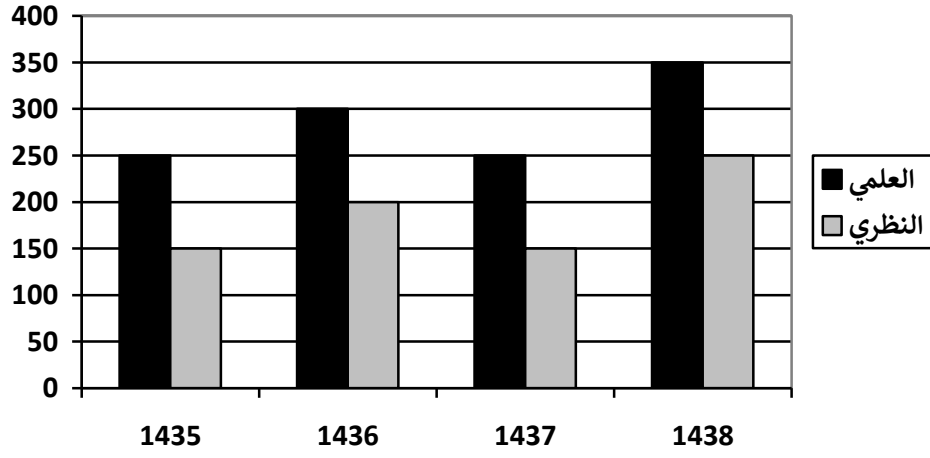
٣: ماهي الشركة الاقل ارباحاً؟

أ - شركة ١

ب - شركة ٢

ج - شركة ٣

د - شركة ٤



١: كم مجموع طلاب العلمي خلال الاربع سنوات ؟

أ - ١٠٥٠

ب - ١١٠٠

ج - ١١٥٠

د - ١٢٠٠

٢: كم مجموع طلاب النظري خلال سنة ١٤٣٦ و سنة ١٤٣٨ ؟

أ - ٣٠٠

ب - ٣٥٠

ج - ٤٠٠

د - ٤٥٠

٣: في أي سنة عدد الطلاب هو الأقل ؟

أ - ١٤٣٤

ب - ١٤٣٦

ج - ١٤٣٧

د - ١٤٣٨

المرتبة السادسة		المرتبة السابعة		المرتبة
نساء	رجال	نساء	رجال	السنة
٢٣٠٠	٣٠٠٠	١٠٥٠	٢٥٠٠	١٤٣٣
٢٥٠٠	٣٥٠٠	١١٠٠	٢٤٠٠	١٤٣٤
٢٠٠٠	٢٥٠٠	١٢٠٠	٢٠٠٠	١٤٣٥
١٦٠٠	١٨٠٠	٩٠٠	١٥٠٠	١٤٣٦
١٤٠٠	١٥٠٠	١١٠٠	١٢٠٠	١٤٣٧
١٢٠٠	١١٠٠	٨٠٠	١٠٠٠	١٤٣٨

١: في أي سنة كانت نسبة التوظيف أكثر؟

ب - ١٤٣٤

أ - ١٤٣٣

د - ١٤٣٦

ج - ١٤٣٥

٢: كم عدد الموظفين من المرتبتين السابعة والسادسة خلال سنة ١٤٣٦؟

ب - ٢٤٠٠

أ - ٢٣٥٠

د - ٢٥٠٠

ج - ٢٤٥٠

٣: كم عدد الموظفين من المرتبة السادسة خلال سنوات ١٤٣٤، ١٤٣٦، ١٤٣٨؟

ب - ٦١٠٠

أ - ٦٠٠٠

د - ٦٤٠٠

ج - ٦٢٠٠

٤: كم عدد الموظفين والموظفات من المرتبتين السابعة والسادسة خلال سنة ١٤٣٥؟

ب - ٧٦٠٠

أ - ٧٥٠٠

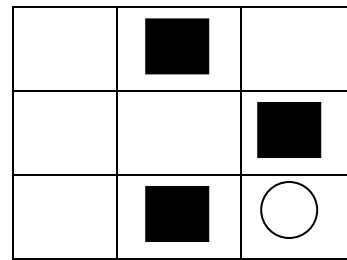
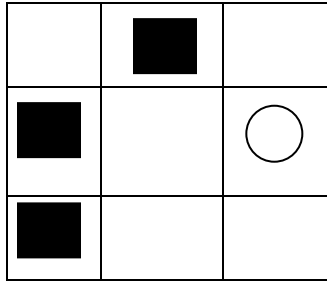
د - ٧٨٠٠

ج - ٧٧٠٠

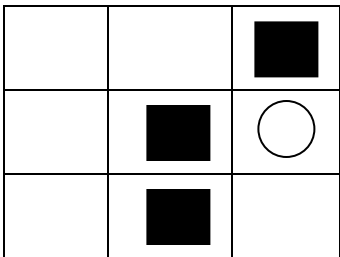
القدرة المكانية

الاستقرائي

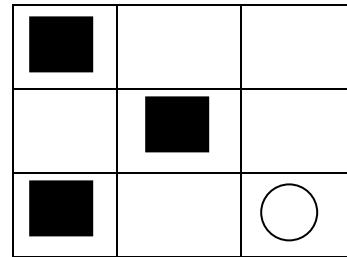
١: ماهو الشكل المماثل؟



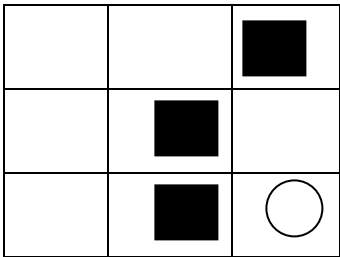
(أ)



(ب)

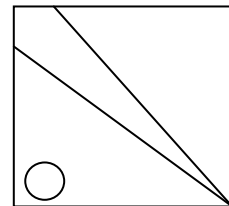
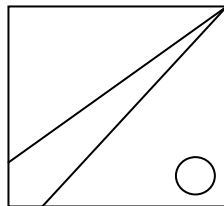
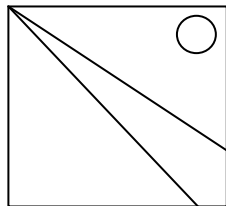


(ج)

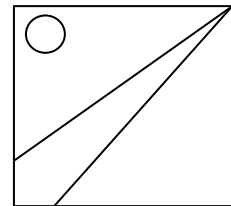
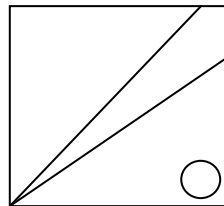
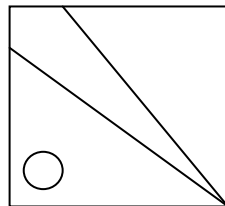
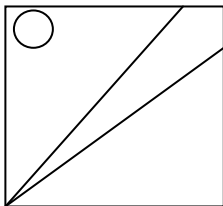


(د)



٢: ماهو الشكل التالي




(د)




٣: ماهو الشكل المماثل




(د)



(ج)


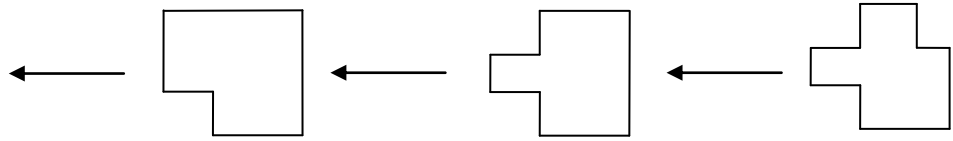


(ب)

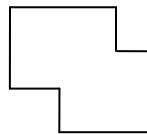


(أ)

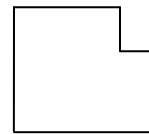
٤: ماهو الشكل التالي ؟



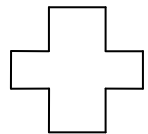
(د)



(ج)

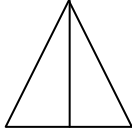
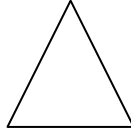


(ب)

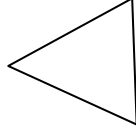


(أ)

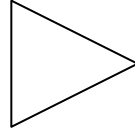
٥: ماهو الشكل المماثل



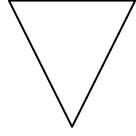
(د)



(ج)

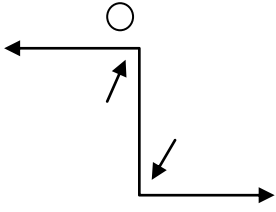
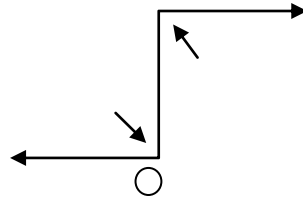


(ب)

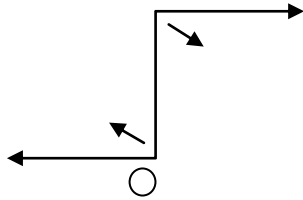


(أ)

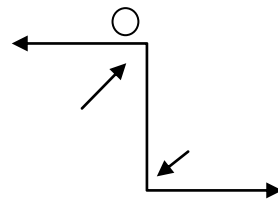
٦: ماهو الشكل المماثل؟



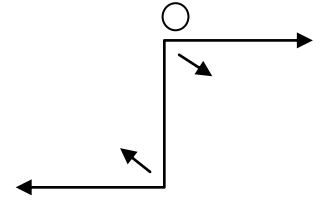
(د)



(ج)

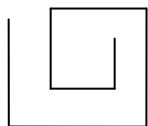
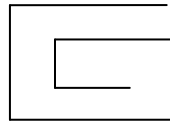


(ب)

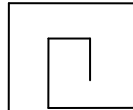


(أ)

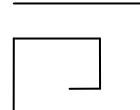
٧: ماهو الشكل المماثل



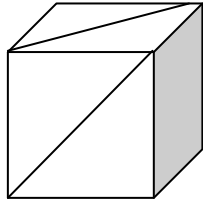
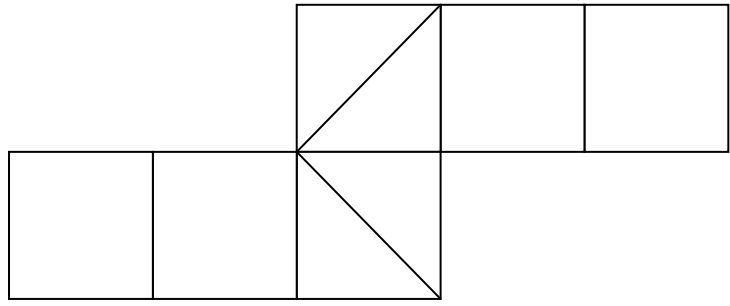
(ج)



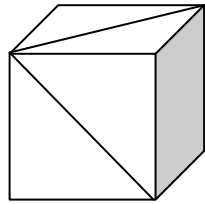
(ب)



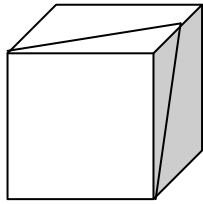
(أ)



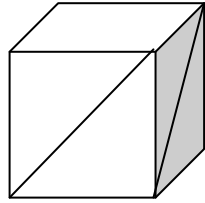
(1)



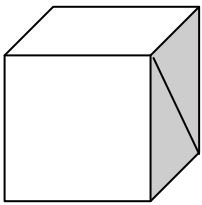
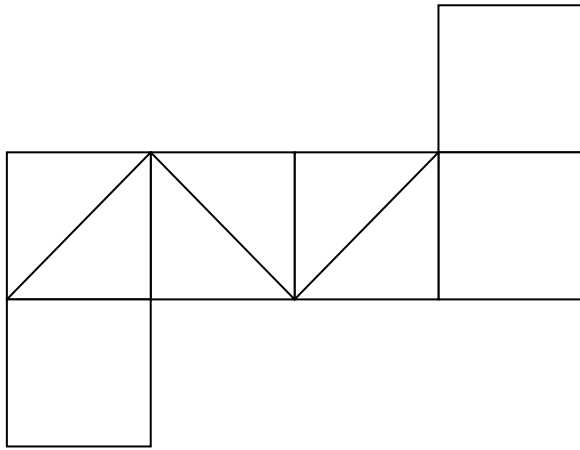
(2)



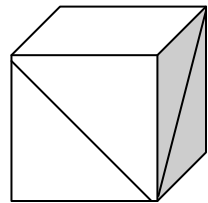
(3)



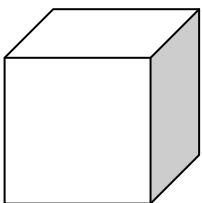
(4)



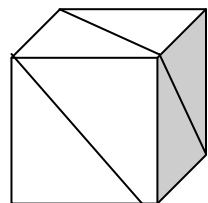
(1)



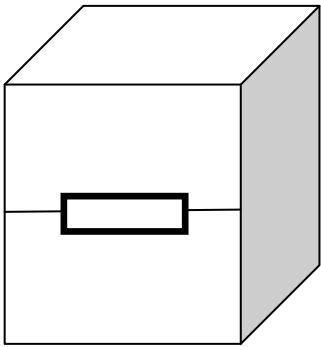
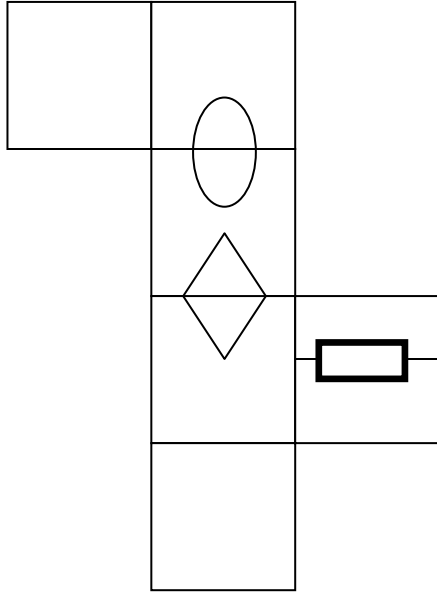
(2)



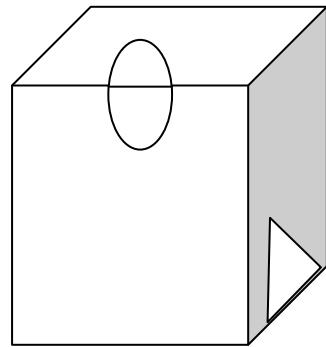
(3)



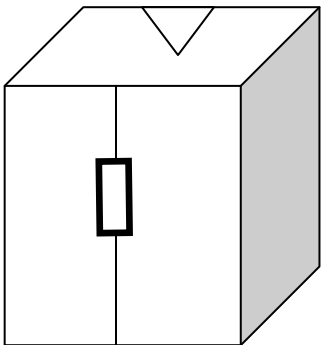
(4)



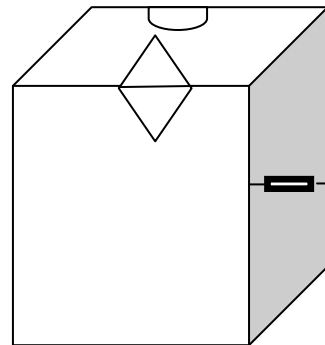
(ب)



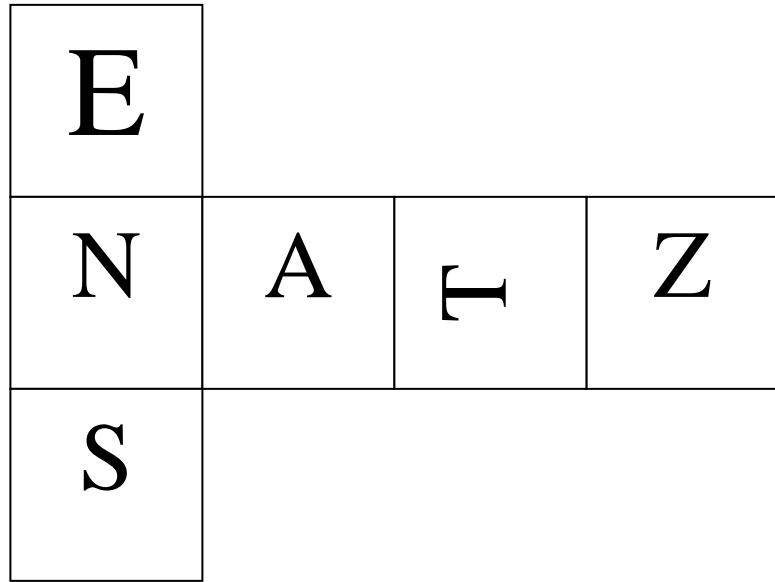
(ا)



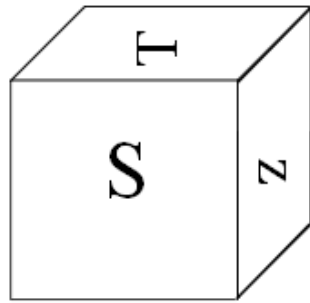
(د)



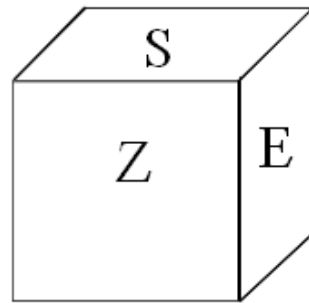
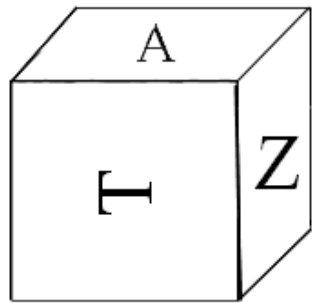
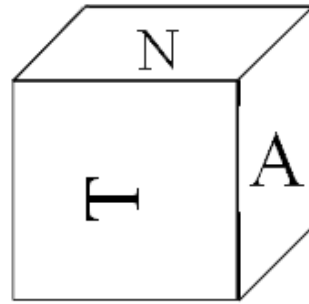
(ج)



(f)

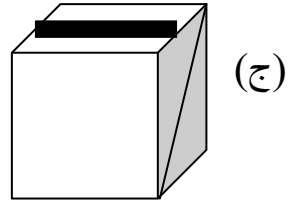
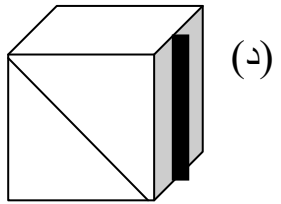
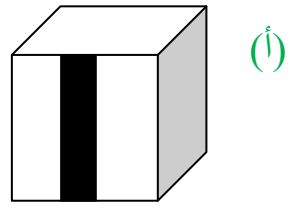
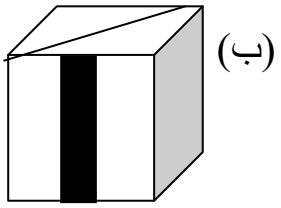
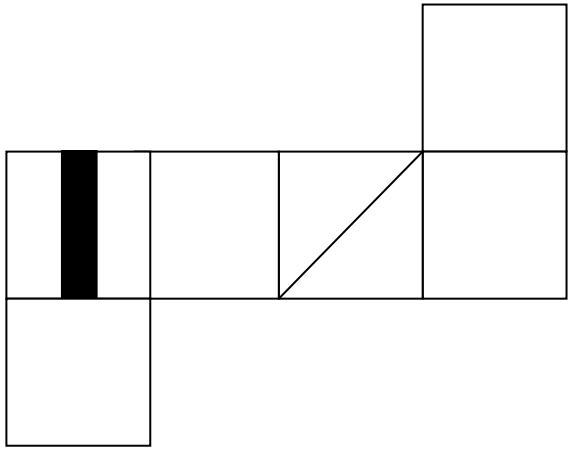


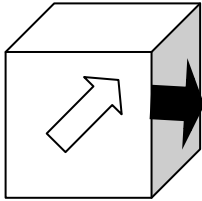
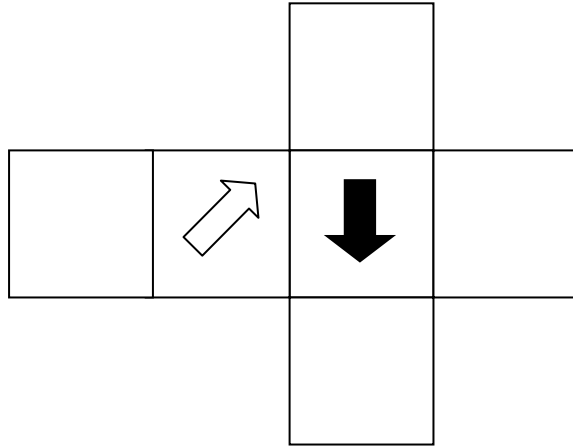
(g)



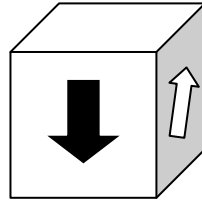
(h)

(i)

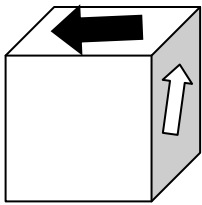




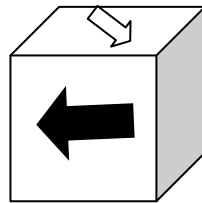
(ب)



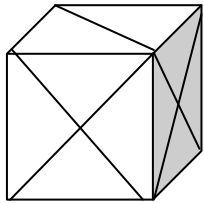
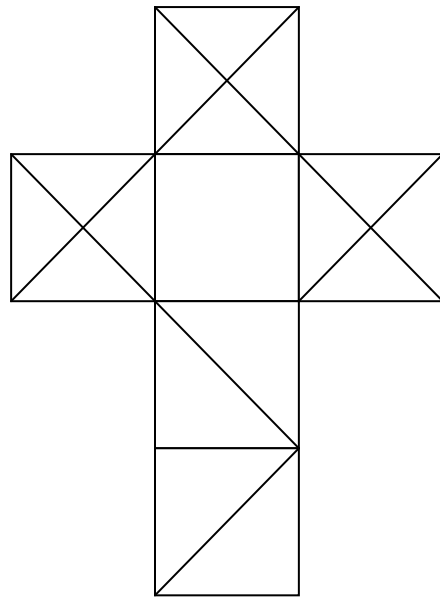
(ا)



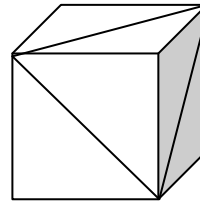
(د)



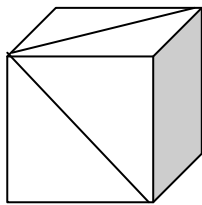
(ج)



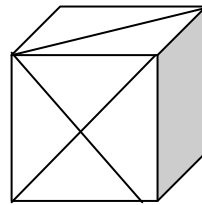
(ب)



(ا)



(د)



(ج)